

ВСЕРОССИЙСКАЯ ОЛИМПИАДА ШКОЛЬНИКОВ
ПО ГЕОГРАФИИ. 2021–2022 уч. г.
ШКОЛЬНЫЙ ЭТАП. 5 КЛАСС

Задание 1

Прочитайте текст о природе нашей страны и замените пропуски, обозначенные числами, на слова (словосочетания). Ответы указывайте в единственном числе, именительном падеже.

(1) – территория, которая характеризуется однообразными (2) условиями, особенностями почвы, растительности и животного мира. На материковой части нашей страны и островах (3) океана сформировались самые холодные (1) – (4) и (5).

На просторах (5) обитают два вида копытных животных: (6), по поголовью которого Россия занимает первое место в мире, и овцебык, завезённый в нашу страну из (7) архипелага.

Более 45 % территории России занимают лесные (1): тайга, смешанный лес, (8) лес, муссонный лес Дальнего Востока, субтропический лес. В тайге преобладают (9) породы деревьев, наиболее распространённой из которых является (10), способная выживать в суровых (2) условиях. В (1) смешанных лесов расположена территория Москвы, кроме (9) пород здесь встречаются (8). На Дальнем Востоке произрастает смешанный муссонный лес. Здесь можно встретить крупнейшего представителя подвида семейства кошачьих – (11).

К югу от лесной зоны распространена (12), (1) с наиболее плодородными почвами – (13). В самых засушливых (2) условиях на (14) низменности сформировались полупустыни. В субтропических широтах на черноморском побережье Краснодарского края и (15) полуострова произрастают субтропические жестколистные леса.

№	Ответ	Количество баллов
1	Природная зона	2 балла
2	Климатические / климатическими	1 балл
3	Северного Ледовитого / Северный Ледовитый	1 балл
4	Арктические пустыни / арктических пустынь / полярные пустыни / полярных пустынь	2 балла
5	Тундра / тундры	2 балла
6	Полярный олень / северный олень	2 балла
7	Канадский Арктический / Канадского Арктического	2 балла
8	широколиственный	1 балл
9	хвойные	1 балл
10	лиственница	2 балла
11	Уссурийский тигр / уссурийского тигра / амурский тигр / амурского тигра / дальневосточный тигр /	1 балл

	дальневосточного тигра	
12	степь	2 балла
13	Чернозёмы / чернозёмами	2 балла
14	Прикаспийская / Прикаспийской	2 балла
15	Крымский / Крымского / Крым / Крыма	2 балла

Сумма: 25 баллов.

Задание 2

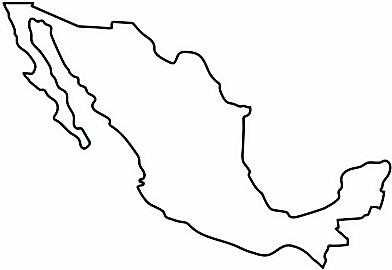




Определите по контурам государства мира (А–Е), расположенные в разных частях света. Напишите их названия в полях ответов и подберите высказывание (1–6), которое будет характерно для каждой определённой Вами страны. Ответьте на дополнительный вопрос в конце задания.

Высказывания о странах:

1. Страна получила своё название в честь итальянского города, здесь расположен самый высокий водопад мира и крупнейшее по площади озеро материка, на котором находится данное государство.
2. Крупнейшая по площади территории страна на своём континенте, её столица носит такое же имя, как и государство.
3. Страна Старого Света, родина Александра Дюма и Жюль Верна.
4. Страна-архипелаг, здесь снимались фильмы «Хоббит» и «Властелин колец», коренные жители – маори, один из символов страны – птица киви.
5. Коренные жители страны – индейцы ацтеки и майя, официальный язык страны испанский, столица – один из крупнейших по численности населения городов мира.
6. Страна, занимающая наибольшее количество островов, знаменита крупнейшими в истории человечества извержениями вулканов.

Страна	Контур	Название страны	Номер высказывания
А			

Всероссийская олимпиада школьников по географии 2021–2022 уч. г.
Школьный этап. 5 класс

Б			
В			
Г			
Д			
Е			

Дополнительный вопрос. Какая из определённых Вами стран расположена в двух частях света? Напишите название страны.

ОТВЕТЫ И КРИТЕРИИ ОЦЕНИВАНИЯ

<i>Буква страны</i>	<i>Название страны</i>	<i>Номер высказывания</i>
А	Франция <i>2 балла</i>	3 <i>2 балла</i>
Б	Мексика <i>2 балла</i>	5 <i>2 балла</i>
В	Индонезия <i>2 балла</i>	6 <i>2 балла</i>
Г	Алжир <i>2 балла</i>	2 <i>2 балла</i>
Д	Новая Зеландия <i>2 балла</i>	4 <i>2 балла</i>
Е	Венесуэла <i>2 балла</i>	1 <i>2 балла</i>
Ответ на дополнительный вопрос		Индонезия <i>1 балл</i>

Если название страны не соответствует контуру, то соответствие с номером утверждения не проверяется.

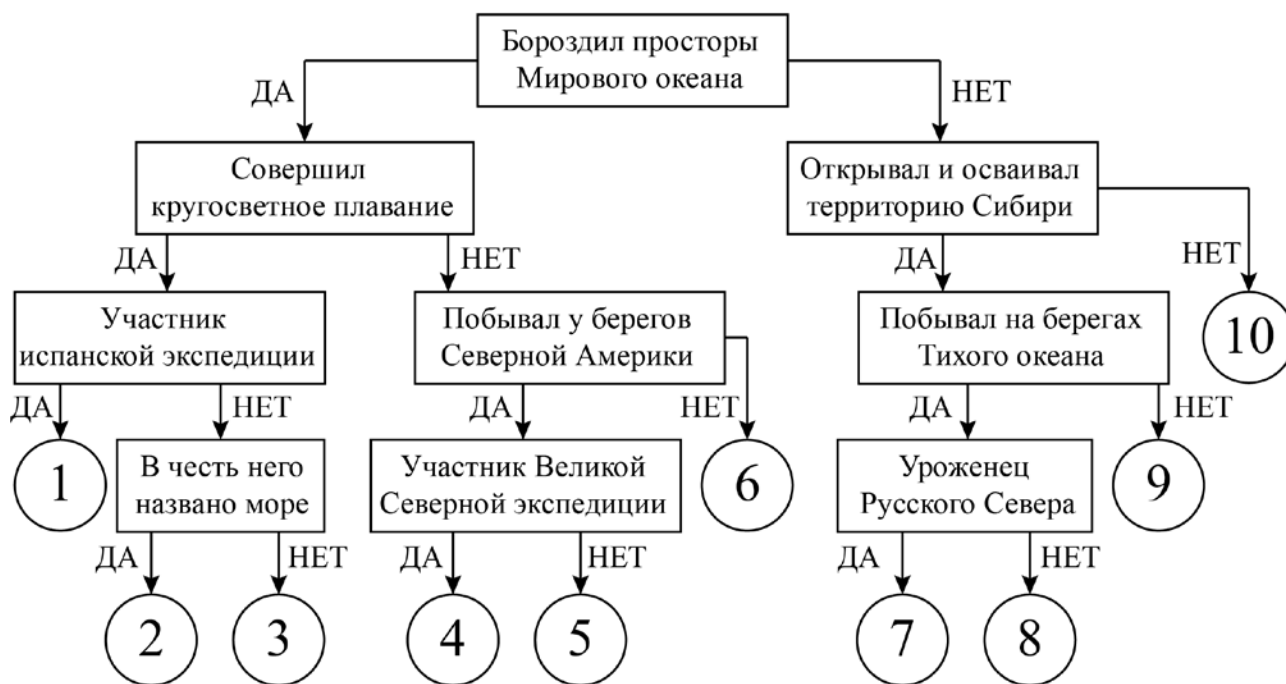
Итого – 25 баллов.

Задание 3

Следуя алгоритму, распределите путешественников.

1. Семён Дежнёв
2. Хуан Себастьян Элькано
3. Фрэнсис Дрейк
4. Михаил Лазарев
5. Иван Москвитин
6. Витус Беринг
7. Ермак Тимофеевич
8. Афанасий Никитин
9. Генри Гудзон
10. Виллем Баренц

История географических открытий



Ответы:

1	Хуан Себастьян Элькано	6	Виллем Баренц
2	Михаил Лазарев	7	Семён Дежнёв
3	Фрэнсис Дрейк	8	Иван Москвитин
4	Витус Беринг	9	Ермак Тимофеевич
5	Генри Гудзон	10	Афанасий Никитин

Критерии оценивания:

За каждый правильный ответ – 2,5 балла.

Максимальное количество баллов – 25.

Задание 4

Пользуясь знаниями по географии, определите, в каком из пяти вариантов ответа верно определён общий признак для четырёх объектов в логическом ряду, и найдено правильное обоснование для лишнего элемента.

Пример:

Россия – США – Франция – Берлин – Испания.

Варианты ответов:

- Россия – крупнейшая по площади территории страна мира, а все остальные имеют меньшую площадь¹.
- США омывается водами трёх океанов, а все остальные – одного.
- Франция – это королевство, все остальные государства – республики.
- **Берлин – это город, а все остальные объекты – государства.**
- Испания – это страна, которая находится на полуострове, а все остальные государства – нет².

Правильный ответ:

Берлин – это город, а все остальные объекты – названия государств.

Ответ считается верным, если определён общий признак для четырёх объектов, найден ошибочный элемент и дано обоснование исключения.

¹ Количественные значения не могут являться общим признаком, если они не переходят в качественные.

² Отсутствие какого-то свойства (страна расположена не на полуострове) не может являться объединяющим признаком.

1. Пользуясь знаниями по географии, определите, в каком из пяти вариантов ответа верно определён общий признак для четырёх объектов в логическом ряду, и найдено правильное обоснование для лишнего элемента.

Уран – Юпитер – Меркурий – Солнце – Марс.

- Юпитер – планета-гигант Солнечной системы, остальные планеты земной группы.
- **Солнце – звезда, остальные – планеты Солнечной системы.**
- Меркурий – ближайшая к Солнцу планета, остальные вне пояса астероидов.
- Уран – планета внешней группы, остальные относятся к земной группе планет.
- У Марса твёрдая поверхность, остальные состоят из водорода и гелия.

2. Пользуясь знаниями по географии, определите, в каком из пяти вариантов ответа верно определён общий признак для четырёх объектов в логическом ряду, и найдено правильное обоснование для лишнего элемента.

Австралия – Евразия – Северная Америка – Южная Америка – Антарктида.

- Австралия – часть света, остальные материки.
- **Антарктида – единственный материк в этом списке, который не имеет постоянного населения.**
- Северная Америка полностью расположена в Северном полушарии, остальные – в Южном.
- Австралия полностью лежит в Южном полушарии, остальные пересекаются экватором.
- Евразия омывается Северным Ледовитым океаном, а другие – Тихим и Атлантическим.

3. Пользуясь знаниями по географии, определите, в каком из пяти вариантов ответа верно определён общий признак для четырёх объектов в логическом ряду, и найдено правильное обоснование для лишнего элемента.

Волга – Лена – Нил – Дон – Енисей.

- Волга впадает в Каспийское море, а другие реки в Атлантический океан.
- **Нил – река в Африке, остальные – на материке Евразия.**
- Лена течёт с юга на север, а другие реки с востока на запад.
- Дон впадает в самое мелкое море мира, все остальные в моря со значительными глубинами.
- Енисей зимой покрывается льдом, остальные реки не замерзают.

4. Пользуясь знаниями по географии, определите, в каком из пяти вариантов ответа верно определён общий признак для четырёх объектов в логическом ряду, и найдено правильное обоснование для лишнего элемента.

Париж – Лондон – Вашингтон – Копенгаген – Бразилия.

- Париж – столица европейского государства, остальные находятся на разных материках.
- Копенгаген расположен на острове, остальные на материке.
- **Бразилия – страна, остальные – столицы стран.**
- Лондон – крупный порт в своей стране, другие объекты находятся в глубине материка.
- Вашингтон – город на материке Северная Америка, а другие города Евразии.

5. Пользуясь знаниями по географии, определите, в каком из пяти вариантов ответа верно определён общий признак для четырёх объектов в логическом ряду, и найдено правильное обоснование для лишнего элемента.

Тундра – тайга – саванна – степь – пустыня.

- Тайга расположена севернее остальных природных зон.
- **Саванна – природная зона, которая не встречается в России, остальные есть на территории нашей страны.**
- В отличие от других природных зон, в тундре практически отсутствуют деревья.
- Степь – природная зона, которая не встречается в России, остальные есть на территории нашей страны.
- Зима в пустыне наиболее холодная, остальные природные зоны известны мягкими условиями зимы.

Критерии оценивания:

Правильный ответ – 5 баллов. Максимальная сумма – 25 баллов.

Максимальный балл за работу – 100.