

Вариант № 1

Инструкция по выполнению работы

Диктант Победы состоит из 25 заданий, 15 из которых с выбором варианта ответа и 10 заданий с кратким ответом. Ответы необходимо вписать в бланк ответов. Номера заданий с выбором ответа (1-13, 21-22) расположены горизонтально на бланке ответов, под каждым номером задания находится столбец из 4 квадратиков, соответствующих вариантам ответа на задание. Ответ на задания с выбором ответа записывается в виде символа «X» («крестик»), которым отмечается выбранный вами вариант.

Номера заданий с кратким ответом (14-20, 23-25) расположены вертикально на бланке ответов, ответ записывается справа от номера задания в бланке ответов. Не разрешается использовать при записи ответа на задания с кратким ответом никаких иных символов, кроме символов кириллицы и арабских цифр. Записывайте буквы и цифры в соответствии с образцом на бланке. Каждая цифра, символ записывается в отдельную клетку. Будьте аккуратны. Небрежное написание символов может привести к тому, что при автоматизированной обработке символ может быть распознан неправильно.

Ответ: 321

Ответ: Подвиг

3 2 1
П О Д В И Г

Обращаем ваше внимание, что на бланке ответов запрещается делать какие-либо записи и пометки, не относящиеся к ответам на задания. Вы можете делать пометки в заданиях Диктанта Победы. Также обращаем ваше внимание на то, что ответы, записанные в заданиях Диктанта, не проверяются.

Желаем успеха!

К каждому заданию 1 - 13 даны несколько ответов, из которых только один верный. Выберите верный, по Вашему мнению, ответ. В бланке ответов под номером задания поставьте крестик (X) в клеточке, номер которой равен номеру выбранного Вами ответа.

1

Прочитайте отрывок из воспоминаний адмирала Ю.А. Паптелеева и назовите пропущенную в тексте фамилию военно-морского деятеля - будущего Адмирала Флота Советского Союза. Приказ, отданный им в ночь с 21 на 22 июня 1941 г., обеспечил успешный отпор советского Военно-морского флота гитлеровским агрессорам в первый же день войны.

«В 23 часа 37 минут 21 июня поступила депеша из Москвы. Нарком ВМФ адмирал _____ приказал перейти всем флотам на высшую оперативную готовность № 1.

Срочно передаём сигнал соединениям и частям. Командиры их знали, что делать: необходимые документы хранились в сейфах, оставалось только вскрыть запечатанные пакеты. Но времени оставалось очень мало. На рассвете командир нашей базы в Либаве капитан 1 ранга М.С. Клевенский доложил: «Бомбы упали на военный городок и в районе аэродрома. Особых повреждений нет». И тотчас другой тревожный звонок: начальник штаба Кронштадтской базы капитан 2 ранга Ф.В. Зозуля доносит:

- Сброшено шестнадцать немецких мин при входе на Кронштадтский рейд. Фарватер остался чистым...

И пошло... Телефоны звонят непрерывно. Сообщения о силуэтах неизвестных кораблей, перископах подводных лодок, воздушных десантах... Не поток, а водопад донесений! И все их надо принять, проанализировать, отсеять достоверное от явной несуразицы. И как можно скорее, ибо каждая секунда промедления грозит обернуться потерей сотен и тысяч человеческих жизней».

- 1) Н.Г. Кузнецов
- 2) И.С. Исаков
- 3) С.Г. Горшков
- 4) Л.А. Владимирский

Рассмотрите изображение и ответьте на вопрос.

На фотографии, сделанной в августе 1941 г., запечатлены А. Гитлер и Б. Муссолини, подъезжающие в автомобиле к руинам, оставшимся после недавних боёв. Оба диктатора посетили это место лично, чтобы увидеть следы его упорной обороны.

В черте какого города на территории бывшего СССР находится этот объект, удостоенный в 1965 г. почётного звания «крепость-герой»?



- 1) Гродно
- 2) Брест
- 3) Ровно
- 4) Львов

3

«Бодрей, товарищи! Думайте о Родине, и мужество не покинет вас!» - с такими словами погиб советский генерал-лейтенант, крупный военный инженер, попавший летом 1941 г. в плен, решительно отказавшийся от какого-либо сотрудничества с противником и зверски замученный гитлеровцами в концлагере Маутхаузен в составе большой группы заключённых. Посмертно ему присвоено звание Героя Советского Союза.

Назовите фамилию этого генерала.



- 1) С.А. Ткаченко
- 2) В.Н. Сотенский
- 3) И.С. Никитин
- 4) Д.М. Карбышев

Копирование не допускается

4

Прочитайте отрывок из воспоминаний Маршала Советского Союза И.Х. Баграмяна и укажите, с освобождением какого города связаны события 1941 г., о которых идёт речь.

«Контрнаступление Южного фронта закончилось не только крупным поражением немецкой 1-й танковой армии и других войск группы армий «Юг». Оно сковало под _____ почти все силы этой группы армий и не позволило немецкому командованию за её счёт подкрепить свои войска, действовавшие под Москвой.

Весть о победе наших войск вызвала большую радость во всей стране. В адрес победителей шли бесчисленные приветствия как от трудящихся всех республик, так и воинов других армий.

Поражение фашистских войск под _____ чрезвычайно болезненно было воспринято в Берлине. Помимо большого военного значения (крушение фашистских планов на юге) оно нанесло гитлеровцам тяжёлый моральный урон. Ведь это случилось именно в тот момент, когда они, напрягая последние силы, рвались к Москве и надеялись, что победа близка. И вдруг - разгром под _____. Это событие, естественно, далеко не воодушевляюще подействовало на войска, продолжавшие атаки на Москву. Поражение потерпела 1-я танковая армия генерала Клейста - гордость фашистской военной машины. ... Немало ран нанесли ей войска Юго-Западного и Южного фронтов, но к _____ эта танковая армада подошла всё ещё могучей и грозной. И вот впервые за всю историю её существования она подверглась сокрушительному разгрому от войск, которые, судя по сообщениям фашистской пропаганды, уже не существовали».

- 1) Краснодар
- 2) Таганрог
- 3) Ростов-на-Дону
- 4) Харьков

5

Укажите год, когда советская разведка сумела добыть точные сведения о том, что Япония воздержится от нападения на СССР.

Эта ценнейшая и своевременно полученная информация позволила советскому командованию переломить в свою пользу ход одного из важнейших сражений Второй мировой войны и тем самым окончательно сорвать германский план «блицкрига» (молниеносной войны).

- 1) 1940
- 2) 1941
- 3) 1942
- 4) 1943

На этом довоенном снимке запечатлены брат и сестра – Марат и Ариадна, будущие участники партизанского движения в Белоруссии. Пережившая войну Ариадна стала учительницей, была удостоена звания Героя Социалистического Труда, а 14-летний Марат погиб в 1944 г. в неравном бою с фашистами, подорвав себя и окруживших его врагов последней гранатой. Посмертно ему присвоено звание Героя Советского Союза.

Назовите фамилию этих юных белорусских партизан.




- 1) Бельские
- 2) Игнатовы
- 3) Казей
- 4) Котик

7

«Уральцы, вам, чьи руки золотые ковали здесь победу над врагом» - эти строки обозначены на памятнике, который установлен в городе, получившем в годы Великой Отечественной войны неофициальное наименование «Танкоград», а в 2020 г. удостоенном почётного звания «Город трудовой доблести».

В каком уральском городе находится этот памятник?



- 1) Челябинск
- 2) Уфа
- 3) Магнитогорск
- 4) Златоуст

8

Прочитайте стихотворение советской поэтессы-фронтовички Г.Н. Бедновой «Дом Павлова» и укажите, к какому периоду относятся события, отражённые в этом стихотворении.

Стояли насмерть русские бойцы
В сплошном огне и без воды во фляге.
А ветер разносил во все концы
Предсмертный крик и крик «ура!» в атаке.

Над Волгой непрерывный взрыв и гром,
И страшен враг, звереющий в бессилье.
Но разве можно взять обычный дом,
В котором поместилась вся Россия?!

- 1) июль – август 1942 г.
- 2) сентябрь – ноябрь 1942 г.
- 3) февраль – март 1943 г.
- 4) апрель - май 1943 г.

9

Прочитайте отрывок из воспоминаний Главного маршала бронетанковых войск П.А. Ротмистрова и укажите, с названием какого города связаны события, о которых идёт речь.

«Был на исходе июнь 1943 г. Всё острее ощущалось приближение грозных событий. По тем данным, которыми мы располагали, можно было предположить, что они развернутся на орловско-_____ и белгородско-харьковском направлениях. Здесь советские войска после овладения _____ продвинулись на запад до линии Севск, Рылск, Сумы. Образовался так называемый _____ выступ. Дугообразная конфигурация фронта при наличии у противника крупных группировок севернее выступа, в районе Орла, и южнее, в районе Белгорода, позволяла ему нанести встречные удары на _____ в целях окружения и уничтожения главных сил наших Центрального и Воронежского фронтов с последующим развитием наступления в восточном направлении.

Осуществление таких ударов, как известно, являлось излюбленной и хорошо освоенной формой оперативного манёвра немецко-фашистских войск, и гитлеровское командование, конечно, не могло не воспользоваться сложившейся ситуацией – попытаться взять реванш за поражение в зимней кампании, чтобы вновь овладеть стратегической инициативой и повернуть ход войны в свою пользу».

- 1) Курск
- 2) Брянск
- 3) Воронеж
- 4) Полтава

10

В 1953 г. в «Литературной газете» были впервые опубликованы стихи, написанные в берлинской тюрьме и в дальнейшем получившие мировую известность. Их автору, татарскому поэту Мусе Джалилю, попавшему в гитлеровский плен и казнённому за активное участие в подпольной антифашистской борьбе, посмертно присвоено звание Героя Советского Союза.

Какое традиционное наименование носит этот всемирно известный цикл стихотворений М. Джалиля?

Сердце с последним дыханием жизни
Выполнит твёрдую клятву свою:
Песни всегда посвящал я отчизне,
Ныне отчизне я жизнь отдаю.
Пел я, весеннюю свежесть почуя.
Пел я, вступая за родину в бой.
Вот и последнюю песню пишу я,
Видя топор палача над собой.
Песня меня научила свободе,
Песня борцом умереть мне велит.
Жизнь моя песней звенела в народе,
Смерть моя песней борьбы прозвучит.



- 1) «Гитлер и его свора»
- 2) «Дом у дороги»
- 3) «Моабитская тетрадь»
- 4) «Репортаж с петлёй на шее»

11

Рассмотрите изображение и ответьте на вопрос.

Образец советского автоматического оружия, представленный на этом плакате, был принят на вооружение в 1942 г. и выпускался в течение всех последующих военных лет, став, наряду с пистолетом-пулемётом Г.С. Шпагина (ППШ), одним из символов Великой Отечественной войны и Победы.

Назовите фамилию конструктора этого знаменитого оружия.



- 1) В.А. Дегтярёв
- 2) В.Г. Фёдоров
- 3) М.Т. Калашников
- 4) А.И. Судаев

12

Прочитайте отрывок из очерка публициста А.Ю. Кривицкого «Рука Москвы» и укажите, о начале какой крупномасштабной наступательной операции советских войск идёт речь.

«Наступление немецкой группировки началось 16 декабря на рассвете. Гитлер бросил в бой 250 тысяч солдат, 900 танков, 800 самолётов. Им удалось прорвать фронт и продвинуться в глубину почти на 100 километров. Союзные войска отступали, неся большие потери.

В конце декабря наступление вермахта под кодовым названием «Вахта на Рейне» было приостановлено. Но немецкое командование не отказалось от своих планов. В новогоднюю ночь оно начало наступление в Эльзасе, в районе Страсбурга, а более 1000 самолётов со свастикой нанесли удары по аэродромам Франции, Бельгии и Голландии, уничтожив 260 самолётов союзников. Положение войск союзников оставалось тяжёлым.

Вот в таких обстоятельствах 6 января 1945 г. Черчилль обратился к И. Сталину с просьбой: так, мол, и так, дело у нас плохо, помогите. Просьба эта также широко известна. Известен и ответ: поможем, какой разговор! Москва, верная союзническому долгу, протянула руку помощи Англии и Америке. 12 января, на восемь дней раньше запланированного срока, советские войска начали своё крупное наступление. Оно заставило гитлеровское командование прямо-таки немедленно прекратить активные действия на Западном фронте».

- 1) Висло-Одерская
- 2) Восточно-Прусская
- 3) Западно-Карпатская
- 4) Ясско-Кишинёвская

13

Рассмотрите изображение и ответьте на вопрос.

Событие, запечатлённое на данном изображении, - потопление германского лайнера советской подводной лодкой С-13 под командованием капитана 3-го ранга А.И. Маринеско - произошло 30 января 1945 г. в Балтийском море.

Как назывался этот лайнер, гибель которого относится к числу крупнейших морских катастроф Второй мировой войны?



- 1) «Бисмарк»
- 2) «Вильгельм Густлофф»
- 3) «Гойя»
- 4) «Тирпиц»

Ответы на задания 14 - 20 запишите на бланке ответов рядом с номером задания, начиная с первого окошка. Ответом могут быть цифры или слова. Каждую букву слова или цифру числа пишите в отдельном окошке по приведенным образцам.

14

Расположите указанные события в хронологическом порядке. Запишите цифры, которыми обозначены исторические события, в правильной последовательности в таблицу.

- 1) Карпатский рейд партизанского соединения С.А. Ковпака
- 2) взятие Будапешта
- 3) гибель 2-й ударной армии при попытке прорвать блокаду Ленинграда
- 4) оборона Тулы

Ответ:

--	--	--	--

15

Среди произведений искусства на патриотическую тему, созданных в период Великой Отечественной войны, видное место занимает картина советского художника М.И. Авилова, написанная в год «коренного перелома» и посвящённая легендарному событию русской военной истории.

Назовите богатыря, образ которого запечатлён в левой части этой картины.



Ответ: _____

Какой знаменитый советский цирковой артист, работавший в популярнейшем клоунском дуэте с Юрием Никулиным, в годы Великой Отечественной войны был офицером-танкистом, участником трёх битв – Сталинградской, Курской и за Днепр, а также операции «Багратион»?




Ответ: _____

17 Рассмотрите кадр из художественного фильма, снятого в 1970 г. кинорежиссёром Алексеем Германом и посвящённого борьбе советских партизан против немецко-фашистских оккупантов. В основе сюжета фильма – судьба младшего сержанта Красной армии, оказавшегося в плену, поступившего на службу к гитлеровцам, а потом примкнувшего к партизанам и геройски погибшего при угоне вражеского эшелона (актёр Владимир Заманский, исполнивший эту роль, сам является участником Великой Отечественной войны).

Копирование не допускается

Укажите название фильма.



Ответ: _____

18 Рассмотрите изображение и ответьте на вопрос.

Этот мемориал, неофициально именуемый «Алёша» (по аналогии с памятником советскому солдату, находящимся в Болгарии), установлен в портовом городе, через который в СССР в период Великой Отечественной войны поступали грузы, поставлявшиеся странами-союзницами в рамках программы ленд-лиз. В 1985 г., к 40-летию Победы, город был удостоен высшей степени отличия – звания «Город-герой».

Укажите название данного города.



Ответ: _____

Рассмотрите изображение и ответьте на вопрос.

Этот советский полководец начал свой боевой путь ещё в Первую мировую войну, участвовал в Брусиловском прорыве, а в период Гражданской войны был призван в Красную армию, где сделал блистательную карьеру - от помощника командира взвода до Маршала Советского Союза и военного министра СССР. В 1942-1945 гг. он являлся начальником Генерального штаба, в феврале 1945 г. стал командующим 3-м Белорусским фронтом, завершив в этой должности Восточно-Прусскую операцию, а в июле того же года был назначен главнокомандующим советскими войсками на Дальнем Востоке, возглавив боевые действия против Японии. За выдающиеся заслуги дважды удостоен звания Героя Советского Союза и дважды награждён орденом «Победа» (став одним из трёх - наряду с И.В. Сталиным и Г.К. Жуковым - двукратным кавалером высшего советского военного ордена).



Назовите фамилию этого деятеля.

Ответ: _____

20

Рассмотрите изображение и ответьте на вопрос.

Этот памятник-бюст, установленный в Ставропольском крае, посвящён Герою Советского Союза генерал-майору Л.М. Доватору - одному из легендарных участников Битвы за Москву.

Укажите, какой род войск представлял в своём лице этот прославленный военачальник.

Ответ: _____



К каждому заданию 21 - 22 даны несколько ответов, из которых только один верный. Выберите верный, по Вашему мнению, ответ. В бланке ответов под номером задания поставьте крестик (X) в клеточке, номер которой равен номеру выбранного Вами ответа.

21

Рассмотрите изображение и выполните задание.

7 ноября 1941 г. военный парад в честь 24-й годовщины Октябрьской революции прошёл не только в Москве, но и в Куйбышев, и в Воронеже. Командовал воронежским парадом заместитель командующего Юго-Западным фронтом генерал-лейтенант Ф.Я. Костенко, а принимал парад известный советский военачальник - Маршал Советского Союза и бывший народный комиссар обороны.

Назовите этого военачальника.



- 1) К.Е. Ворошилов
- 2) С.К. Тимошенко
- 3) С.М. Будённый
- 4) Г.К. Жуков

22


В каком из указанных ниже городов памятники героям Великой Отечественной войны и жертвам немецко-фашистских оккупантов стоят наряду с памятниками, возведёнными в честь сражения Отечественной войны 1812 г.?

- 1) Смоленск
- 2) Орёл
- 3) Тверь
- 4) Тула

Ответы на задания 23 – 25 запишите на бланке ответов рядом с номером задания, начиная с первого окошка. Ответом могут быть цифры или слова. Каждую букву слова или цифру числа пишите в отдельном окошке по приведенным образцам.

23

Назовите город, в котором находится мемориал «Защитникам неба Отечества».



Ответ: _____

24

5 августа 1943 г. в Москве был дан артиллерийский салют в честь освобождения советских городов – первый за годы Великой Отечественной войны. За этими двумя городами закрепилось неофициальное наименование «города первого салюта».

Укажите их названия.

Ответ: _____

25

Назовите лётчика-истребителя, Героя Советского Союза, который одним из первых осуществил ночной таран вражеского самолёта в небе над Москвой.



Ответ: _____