

**1**

Выберите в приведённом списке верные суждения о рынке и его видах и запишите цифры, под которыми они указаны.

- 1) Посредством стимулирующей функции рынка устанавливаются пропорции в обмене товаров, определяются цены.
- 2) По объёмам продаж выделяют оптовый и розничный рынки.
- 3) По степени насыщенности товарами различают дефицитный, равновесный и избыточный виды рынка.
- 4) По соответствию правовым нормам выделяют рынок свободной конкуренции и монополистический рынок.
- 5) Рынок обеспечивает функцию саморегулирования экономики.

Ответ: \_\_\_\_\_.

**2**

Установите соответствие между примерами и уровнями налоговой системы в РФ: к каждой позиции, данной в первом столбце, подберите соответствующую позицию из второго столбца.

## ПРИМЕР

УРОВЕНЬ НАЛОГОВОЙ  
СИСТЕМЫ

- А) налог на доходы физических лиц  
Б) водный налог  
В) налог на добычу полезных ископаемых  
Г) транспортный налог  
Д) налог на имущество организаций

- 1) федеральные  
2) региональные

Запишите в таблицу выбранные цифры под соответствующими буквами.

Ответ:

А	Б	В	Г	Д

3

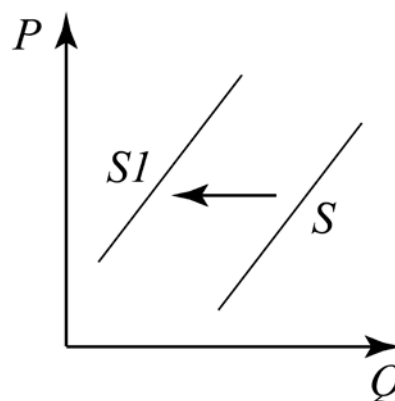
Правительство страны проводит реформирование экономики, переводя её на рыночные рельсы. Выберите из приведённого ниже списка меры, применяемые правительством. Запишите цифры, под которыми они указаны.

- 1) повышение таможенных пошлин
- 2) приватизация промышленных предприятий
- 3) форсированная индустриализация
- 4) либерализация цен
- 5) стимулирование развития малого и среднего бизнеса
- 6) введение запрета на валютные операции

Ответ: \_\_\_\_\_.

4

На графике изображено изменение ситуации на рынке самокатов: кривая предложения переместилась из положения  $S$  в положение  $S1$ . (На графике  $P$  – цена товара;  $Q$  – количество товара.)



Какие из перечисленных факторов могут вызвать такое изменение? Запишите цифры, под которыми они указаны.

- 1) наступление зимы
- 2) рост популярности велосипедов
- 3) увеличение числа производителей спортивных товаров
- 4) снижение ставок по кредитам
- 5) снижение таможенных тарифов

Ответ: \_\_\_\_\_.

5

В регионе страны М. в 2017 г. были проведены опросы общественного мнения, в ходе которых респондентам предлагалось ответить на вопрос: «В чём состоит преимущество региона для туристического отдыха?» Результаты опросов (в % от числа отвечавших) представлены на диаграмме.



Найдите в приведённом списке выводы, которые можно сделать на основе диаграммы, и запишите **цифры**, под которыми они указаны.

- 1) Более половины опрошенных считают, что туристов привлекает богатое историко-культурное наследие региона.
- 2) Равные доли опрошенных назвали экономическую привлекательность региона и богатое историческое наследие основными факторами, определяющими туристический интерес.
- 3) Равные доли опрошенных считают выгодное географическое положение и благоприятные климатические условия наиболее привлекательными для туристов.
- 4) Более пятой части опрошенных назвали природные ландшафты привлекающим туристов фактором.
- 5) Политическая стабильность и экономическая привлекательность региона, с точки зрения опрошенных, менее всего привлекают туристов.

Ответ: \_\_\_\_\_.

**6** Запишите слово, пропущенное в таблице.

**Блага**

<b>ВИДЫ БЛАГ</b>	<b>ПРИМЕРЫ</b>
_____	Пищевые продукты, одежда, мебель и т. д.
Свободные	Воздух, солнечный свет, родниковая вода и т. д.

Ответ: \_\_\_\_\_.

**7** Выберите в приведённом списке верные суждения об экономическом цикле и запишите **цифры**, под которыми они указаны.

- 1) Безработица является максимальной в высшей точке экономического подъёма.
- 2) Учёные различают внутренние и внешние причины экономического кризиса.
- 3) Экономический кризис характеризуется резким падением объёмов производства.
- 4) Цикличность экономического развития свойственна всем экономическим системам.
- 5) Наиболее чувствительны к циклическим колебаниям фирмы, выпускающие средства производства и потребительские товары длительного пользования.

Ответ: \_\_\_\_\_.

**8**

Установите соответствие между примерами и факторами спроса и предложения: к каждой позиции, данной в первом столбце, подберите соответствующую позицию из второго столбца.

**ПРИМЕР****ФАКТОР**

А) число продавцов на рынке

1) фактор спроса

Б) цены на сырьё

2) фактор предложения

В) потребительские предпочтения

Г) таможенные пошлины

Д) рост численности городского населения

Запишите в таблицу выбранные цифры под соответствующими буквами.

Ответ:

А	Б	В	Г	Д

**9**

В стране М наблюдается рост инфляции. Выберите из приведённого ниже списка факторы, которые могли этому способствовать. Запишите **цифры**, под которыми они указаны.

1) милитаризация производства и рост военных расходов государства

2) рост курса национальной валюты

3) чрезмерная кредитная экспансия

4) чрезмерная эмиссия бумажных денег

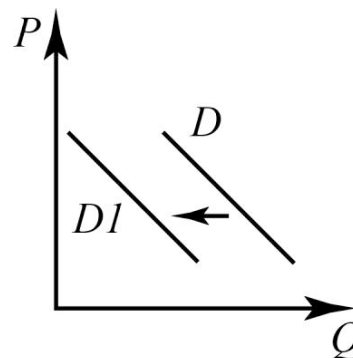
5) рост реального ВВП

6) сокращение численности безработных

Ответ: \_\_\_\_\_.

10

На графике изображено изменение ситуации на рынке малолитражных автомобилей: кривая спроса переместилась из положения  $D$  в положение  $D1$ . (На графике  $P$  – цена товара;  $Q$  – количество товара.)



Какие из перечисленных факторов могут вызвать такое изменение? Запишите цифры, под которыми они указаны.

- 1) снижение цен на бензин
- 2) рост пошлин на иномарки
- 3) спад производства в автомобилестроительной отрасли страны
- 4) активная рекламная кампания доступных внедорожников
- 5) реализация выгодной для потребителей программы автомобильного кредитования

Ответ: \_\_\_\_\_.

11

Выберите верные суждения об экономическом развитии и запишите цифры, под которыми они указаны.

- 1) На экономическое развитие страны оказывают влияние географические факторы.
- 2) Экономическое развитие – это процесс экономического роста, структурных сдвигов в экономике, совершенствование условий и качества жизни населения.
- 3) Экономический рост непосредственно выражается в улучшении условий труда.
- 4) Научно-техническая революция является одним из важнейших факторов экономического роста.
- 5) Производство ВВП/ВНП на душу населения является ведущим показателем уровня экономического развития.

Ответ: \_\_\_\_\_.

- 12** Установите соответствие между источниками финансирования бизнеса и типами источников: к каждой позиции, данной в первом столбце, подберите соответствующую позицию из второго столбца.

**ИСТОЧНИК ФИНАНСИРОВАНИЯ  
БИЗНЕСА**

**ТИП ИСТОЧНИКА**

- |  |               |
|--|---------------|
| А) чистая прибыль                        | 1) внутренние |
| Б) амортизационные отчисления            | 2) внешние    |
| В) банковский кредит                     |               |
| Г) средства, вырученные от продажи акций |               |
| Д) государственные инвестиции            |               |

Запишите в таблицу выбранные цифры под соответствующими буквами.

Ответ:

А	Б	В	Г	Д

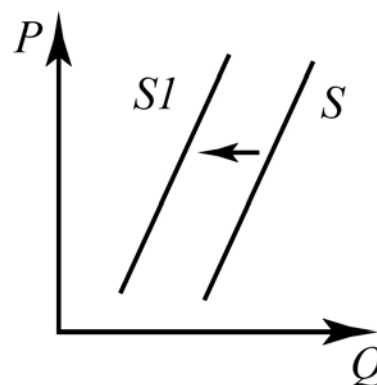
- 13** Большинство производителей телефонов в мире останавливают свой выбор на жидкокристаллических дисплеях, произведённых одной из четырёх компаний, крупнейших в мире производителей жидкокристаллических дисплеев. Выберите из приведённого списка характеристики данного рынка и запишите цифры, под которыми они указаны.

- 1) рынок товаров
- 2) фондовый рынок
- 3) олигополия
- 4) монополия
- 5) рынок сырья
- 6) мировой рынок

Ответ: \_\_\_\_\_.

**14**

На графике изображена ситуация на рынке молочных изделий: линия предложения  $S$  переместилась в новое положение  $S1$ . (На графике  $P$  – цена товара,  $Q$  – объём спроса на товар.)



Какие из перечисленных факторов могут вызвать такое изменение? Запишите **цифры**, под которыми они указаны.

- 1) рост цен на корма для коров
- 2) внедрение нового энергосберегающего оборудования на скотоводческих фермах
- 3) сокращение государственных дотаций для поставщиков молочной продукции
- 4) падение популярности растительного молока
- 5) активная рекламная кампания роли молочных продуктов в здоровом образе жизни

Ответ: \_\_\_\_\_.



**15** Прочитайте приведённый ниже текст, в котором пропущен ряд слов. Выберите из предлагаемого списка слова, которые необходимо вставить на места пропусков.

«Экономический цикл – это периодически повторяющиеся на протяжении ряда лет подъёмы и спады в экономике. Экономический цикл состоит из нескольких фаз. Подъём наступает после достижения низшей точки цикла. Характеризуется постепенным \_\_\_\_ (А) занятости и производства. Многие экономисты полагают, что данной стадии присущи невысокие темпы \_\_\_\_ (Б). Происходит внедрение \_\_\_\_ (В) в экономике с коротким сроком окупаемости. Пик, или вершина цикла деловой \_\_\_\_ (Г), является "высшей точкой" экономического подъёма. В этой фазе безработица обычно достигает самого низкого \_\_\_\_ (Д), производственные мощности работают с максимальной или близкой к ней нагрузкой, то есть в \_\_\_\_ (Е) задействуются практически все имеющиеся в стране материальные и трудовые ресурсы.

Спад характеризуется сокращением объёмов производства и снижением деловой и инвестиционной активности. Вследствие падения конъюнктуры спад обычно сопровождается ростом безработицы и падением загрузки производственных мощностей».

Слова в списке даны в именительном падеже. Каждое слово может быть использовано только один раз.

Выбирайте последовательно одно слово за другим, мысленно заполняя каждый пропуск. Обратите внимание на то, что слов в списке больше, чем Вам потребуется для заполнения пропусков.

Список терминов:

- 1) рост
- 2) экономический
- 3) инновация
- 4) валовый
- 5) производство
- 6) активность
- 7) позиция
- 8) уровень
- 9) инфляция

В данной ниже таблице приведены буквы, обозначающие пропущенные слова. Запишите в таблицу под каждой буквой номер выбранного Вами слова.

А	Б	В	Г	Д	Е
Ответ:					

- 16** В приведённом ниже ряду найдите понятие, которое обобщает / включает в себя все остальные представленные понятия. Запишите это **СЛОВО (словосочетание)**.

*Акционерное общество; дивиденд; уставный капитал; акционер; открытая подписка.*

Ответ: \_\_\_\_\_.

- 17** Выберите верные суждения о функциях экономики как науки и запишите **цифры**, под которыми они указаны.

- 1) Экономика – это наука, которая исследует, как люди используют ограниченные ресурсы для удовлетворения своих потребностей в жизненных благах
- 2) Познавательная функция экономической теории состоит в определении перспектив социально-экономического развития страны
- 3) Изучение хозяйственной деятельности семьи, фирмы как субъектов экономических отношений является предметом микроэкономики
- 4) Воспитательная функция проявляется в формировании определённого мировоззрения, взглядов по различным экономическим вопросам, затрагивающим интересы всего общества
- 5) Практическая функция состоит в том, чтобы всесторонне изучить формы экономических явлений и их внутреннюю сущность, что позволяет открыть законы, по которым развивается национальное хозяйство.

Ответ: \_\_\_\_\_.

- 18** Установите соответствие между примерами и видами собственности: к каждой позиции, данной в первом столбце, подберите соответствующую позицию из второго столбца

## ПРИМЕР

## ВИД

- |  |                                  |
|--|----------------------------------|
| А) имущество консульства государства в другой стране<br>Б) движимое имущество компании ООО «Двери и окна»<br>В) служебный автомобиль министра иностранных дел<br>Г) полученная по наследству от отца приватизированная квартира<br>Д) приобретённый в собственность семьей Ивановых дачный участок | 1) частная<br>2) государственная |
|--|----------------------------------|

Запишите в таблицу выбранные цифры под соответствующими буквами.

Ответ:

А	Б	В	Г	Д

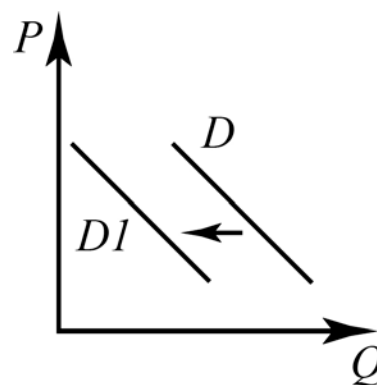
- 19** Фирма «Наталья» предоставляет парикмахерские услуги. Найдите в приведённом ниже списке примеры постоянных издержек этой фирмы в краткосрочном периоде и запишите цифры, под которыми они указаны.

- 1) оплата счетов за покупку расходных материалов
- 2) сдельная оплата услуг курьера
- 3) оплата услуг охранного агентства, обеспечивающего безопасность помещения салона
- 4) окладная оплата труда администратора салона
- 5) ежемесячные выплаты по кредиту на развитие бизнеса
- 6) оплата счетов за электроэнергию по данным установленных в салоне счётчиков

Ответ: \_\_\_\_\_.

20

На графике изображена ситуация на рынке мясных полуфабрикатов импортного производства в стране А: линия спроса  $D$  переместилась в новое положение  $D1$ . (На графике  $P$  – цена товара,  $Q$  – объём спроса на товар.)



Какие из перечисленных факторов могут вызвать такое изменение? Запишите цифры, под которыми они указаны.

- 1) ведение льготного налогообложения на ввоз в страну А мясных полуфабрикатов иностранных производителей
- 2) распространение информации в СМИ о вирусном заболевании скота в некоторых странах-поставщиках мясной продукции
- 3) проведение активной рекламной кампании отечественной компанией-производителем мясной продукции
- 4) существенное увеличение числа поставщиков мясных полуфабрикатов
- 5) рост популярности дорогих мясных полуфабрикатов в стране А

Ответ: \_\_\_\_\_.

21

Ниже приведён перечень банковских функций. Все они, за исключением двух, относятся к сфере деятельности коммерческих банков.

1) эмиссия денег; 2) обслуживание депозитов; 3) осуществление расчётов между предприятиями; 4) выдача кредитов; 5) осуществление валютного регулирования; 6) выпуск кредитных денег.

Найдите две характеристики, «выпадающие» из общего ряда, и запишите в таблицу цифры, под которыми они указаны.

Ответ: \_\_\_\_\_.

**22**

Выберите верные суждения о предпринимательской деятельности и запишите цифры, под которыми они указаны.

- 1) Гражданин вправе заниматься предпринимательской деятельностью без образования юридического лица с момента государственной регистрации в качестве индивидуального предпринимателя.
- 2) Социальная функция предпринимательства выражается в объединении и комбинировании факторов производства и методов организации труда.
- 3) Предпринимательская деятельность – это инициативная самостоятельная, осуществляемая на свой риск деятельность, направленная на систематическое получение прибыли.
- 4) Предпринимательская деятельность осуществляется исключительно с использованием наёмного труда.
- 5) Предпринимательство отличает поиск новых возможностей и перспектив развития бизнеса.

Ответ: \_\_\_\_\_.

**23**

Установите соответствие между объектами и уровнями налогообложения: к каждой позиции, данной в первом столбце, подберите соответствующую позицию из второго столбца.

#### ОБЪЕКТ НАЛОГООБЛОЖЕНИЯ

#### УРОВЕНЬ НАЛОГООБЛОЖЕНИЯ

- А) доходы физических лиц
- Б) земельный налог
- В) налог на добавленную стоимость
- Г) транспортный налог
- Д) налог на имущество организаций

- 1) федеральный
- 2) региональный
- 3) местный

Запишите в таблицу выбранные цифры под соответствующими буквами.

Ответ:

А	Б	В	Г	Д

24

Семья Ивановых, Наталья и Пётр, планирует бюджет на ближайший квартал, составляя перечень планируемых семейных доходов и расходов. Найдите в приведённом ниже списке доходные статьи семейного бюджета Ивановых и запишите цифры, под которыми они указаны.

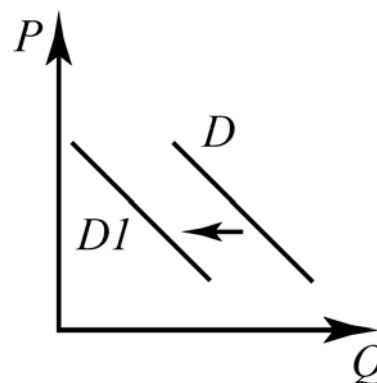
- 1) прибыль от предпринимательской деятельности Петра
- 2) оплата услуг няни для детей Ивановых
- 3) заработная плата Натальи
- 4) арендная плата за квартиру, в которой проживают Ивановы
- 5) выплаты по кредиту
- 6) пенсионные отчисления в негосударственный пенсионный фонд

Ответ: \_\_\_\_\_.

25

На рисунке изображена ситуация на рынке внутреннего туризма в стране X: линия спроса  $D$  переместилась в новое положение  $D1$ . (На графике  $P$  – цена товара,  $Q$  – объём спроса товара.)

Какие из перечисленных факторов могут вызвать такое изменение? Запишите цифры, под которыми они указаны.



- 1) падение цен на путевки в страны ближнего зарубежья
- 2) окончание сезона отпусков
- 3) рост доходов населения
- 4) увеличение налогового обложения на предприятия туристической отрасли
- 5) широкая реклама отдыха на курортах страны X

Ответ: \_\_\_\_\_.

**26**

Выберите верные суждения о командной экономике и запишите цифры, под которыми они указаны.

- 1) Инвестиционные решения в командной экономике принимаются централизованно.
- 2) Государственные органы практически полностью планируют объёмы производства всех товаров и услуг.
- 3) Признаком командной экономики является централизованное ценообразование.
- 4) Командная экономика не предполагает интенсивных путей развития экономики.
- 5) Частная собственность при командной экономической системе распространяется на землю как фактор производства.

Ответ: \_\_\_\_\_.

**27**

Установите соответствие между примерами и факторами экономического роста, которые они иллюстрируют: к каждой позиции, данной в первом столбце, подберите соответствующую позицию из второго столбца.

## ПРИМЕР

ФАКТОР  
ЭКОНОМИЧЕСКОГО  
РОСТА

- А) увеличение выпуска продукции на единицу используемых ресурсов
- Б) увеличение капитальных вложений без соответствующего улучшения технологии
- В) экономия на масштабе
- Г) повышение качества выпускаемой продукции, обновлении ассортимента
- Д) рост числа занятых работников

- 1) интенсивный
- 2) экстенсивный

Запишите в таблицу выбранные цифры под соответствующими буквами.

Ответ:

А	Б	В	Г	Д

28

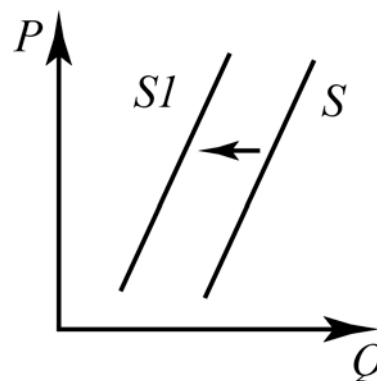
В государстве М проводится реформа налогообложения, в ходе которой были увеличены косвенные налоги. Найдите в приведённом ниже списке примеры налогов, ставка которых будет увеличена в ходе проведения данной реформы, и запишите цифры, под которыми они указаны.

- 1) налог на доходы физических лиц
- 2) налог на добавленную стоимость
- 3) акциз
- 4) земельный налог
- 5) таможенные сборы
- 6) транспортный налог

Ответ: \_\_\_\_\_.

29

На рисунке изображена ситуация на рынке злаковых культур в стране А: линия предложения  $S$  переместилась в новое положение  $S1$ . (На графике  $P$  – цена товара,  $Q$  – объём спроса товара.)



Какие из перечисленных факторов могут вызвать такое изменение? Запишите цифры, под которыми они указаны.

- 1) внедрение более производительных технологий выращивания злаковых культур
- 2) рост числа фермерских хозяйств – производителей злаковых культур
- 3) начало сезона сельскохозяйственных работ
- 4) публикация информации о распространении вирусного заболевания злаковых культур
- 5) рост среднегодовых температур и аномальное сокращение числа осадков в регионах выращивания злаковых культур

Ответ: \_\_\_\_\_.



30

В ходе социологических опросов, проведённых в стране Z в 2011, 2012, 2014 годах респондентам задавали вопрос: «Каким источникам информации Вы доверяете при выборе банка больше всего?». Результаты опросов в процентах от числа опрошенных представлены в таблице.

	2011	2012	2014
Рекомендации знакомых и родственников	49	56	59
Рейтинги банков	15	19	27
Отзывы людей о банках на Интернет-форумах, в прессе и т.п.	15	20	23
Телевизионные репортажи (новости, комментарии экспертов и т.п.)	20	17	18
Советы и рекомендации независимых экспертов (финансовых аналитиков, представителей государственных органов)	14	13	18
Статьи в прессе	13	13	11
Реклама банка	5	7	7
Телефонный звонок сотрудника банка с консультацией или предложением	3	3	5
Пришедшее по почте предложение самого банка	2	3	3
Другое	11	8	8
Затрудняюсь ответить	12	8	10

Найдите в приведённом списке выводы, которые можно сделать на основе таблицы, и запишите цифры, под которыми они указаны.

- 1) Число опрошенных, ориентирующихся на рейтинги банков, неуклонно росло.
- 2) На рекламу банка обращают внимание при выборе банковских услуг менее десятой части опрошенных.
- 3) Рекомендации знакомых и родственников являются определяющим фактором при выборе банка для большинства опрошенных.
- 4) На телефонную рекламу банковских услуг обращали внимание около трети опрошенных в 2011 году.
- 5) Роль публикаций в прессе к 2014 году возросла при выборе банка.

Ответ: \_\_\_\_\_.

**31**

Прочитайте приведённый ниже текст, в котором пропущен ряд слов. Выберите из предлагаемого списка слова, которые необходимо вставить на места пропусков.

Экономическая интеграция – это взаимодействие и взаимоприспособление национальных хозяйств разных стран, ведущее к их постепенному экономическому \_\_\_\_ (А). На межгосударственном уровне интеграция происходит путём формирования региональных экономических \_\_\_\_ (Б) государств и согласования их внутренней и внешней экономической политики. Взаимодействие и взаимоприспособление национальных хозяйств проявляется, прежде всего, в постепенном создании «общего рынка» – в \_\_\_\_ (В) условий товарообмена и перемещения производственных ресурсов между странами.

\_\_\_\_ (Г) производственная кооперация, важнейшая предпосылка развития интеграционных блоков, представляет собой такую форму организации производства, при которой \_\_\_\_ (Д) разных стран совместно участвуют в одном и том же производственном процессе (или в разных процессах, связанных между собой). По мере её развития формируются транснациональные корпорации, организующие производство в международном масштабе и регулирующие мировой \_\_\_\_ (Е).

Список терминов:

- 1) слияние
- 2) национальный
- 3) взаимодействие
- 4) объединение
- 5) международный
- 6) национализация
- 7) рынок
- 8) работник
- 9) либерализация

В данной ниже таблице приведены буквы, обозначающие пропущенные слова. Запишите в таблицу под каждой буквой номер выбранного Вами слова.

Ответ:

А	Б	В	Г	Д	Е

**32** Запишите слово, пропущенное в таблице.

### Функции рынка

ФУНКЦИИ РЫНКА	ХАРАКТЕРИСТИКА
...	Освобождение экономики от неэффективной хозяйственной деятельности
Посредническая	Соединение производителей товаров и услуг и их потребителей

Ответ: \_\_\_\_\_.

**33** Выберите в представленном ниже перечне меры, способствующие снижению уровня инфляции, и запишите **цифры**, под которыми они указаны.

- 1) сокращение бюджетного дефицита за счёт повышения налогов
- 2) увеличение размера социальных выплат
- 3) осуществление контроля денежной эмиссии
- 4) проведение денежных реформ конфискационного типа
- 5) увеличение номинальных зарплат государственных служащих

Ответ: \_\_\_\_\_.

**34** Установите соответствие между примерами и видами издержек в краткосрочном периоде: к каждой позиции, данной в первом столбце, подберите соответствующую позицию из второго столбца

### ПРИМЕР

### ВИД ИЗДЕРЖКИ

- |  |               |
|--|---------------|
| А) арендная плата за офисное помещение | 1) постоянные |
| Б) зарплата бухгалтера                 | 2) переменные |
| В) плата за электроэнергию             |               |
| Г) сдельная зарплата рабочих           |               |
| Д) выплаты по кредиту                  |               |

Запишите в таблицу выбранные цифры под соответствующими буквами.

Ответ:

А	Б	В	Г	Д

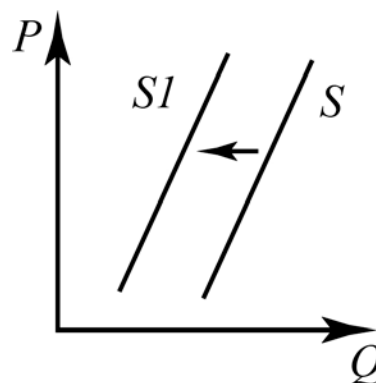
**35** В стране М прошли массовые манифестации против повышения ставок прямых налогов. Найдите в приведённом ниже списке прямые налоги и запишите цифры, под которыми они указаны.

- 1) налог на недвижимость
- 2) акциз
- 3) налог на земельную ренту
- 4) налог на прибыль организаций
- 5) транспортный налог
- 6) налог на добавленную стоимость

Ответ: \_\_\_\_\_.

**36** На рисунке изображена ситуация на рынке сотовой связи: линия предложения  $S$  переместилась в новое положение  $S1$ . (На графике  $P$  – цена товара,  $Q$  – количество товара.)

Какие из перечисленных факторов могут вызвать такое изменение? Запишите цифры, под которыми они указаны.

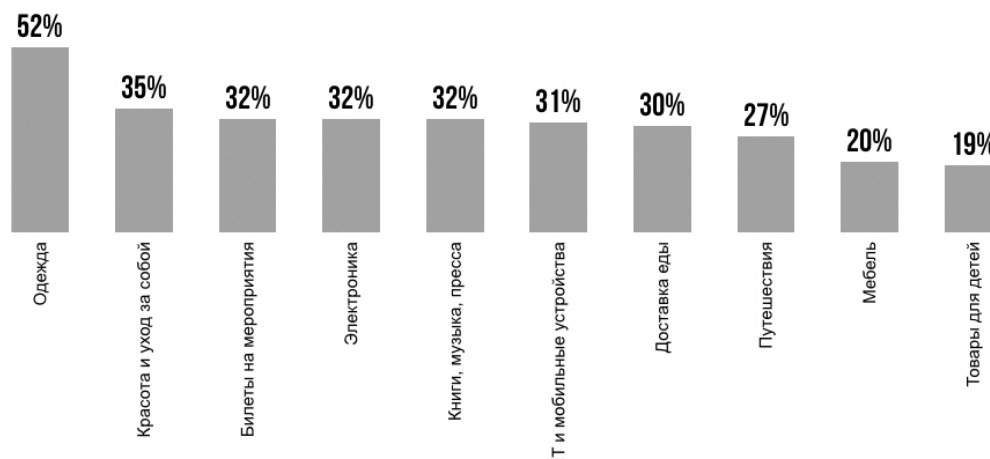


- 1) появление нового оператора сотовой связи
- 2) рост налогообложения операторов сотовой связи
- 3) расширение перечня услуг мобильной связи
- 4) рост числа корпоративных клиентов операторов сотовой связи
- 5) снижение доходов населения

Ответ: \_\_\_\_\_.

**37**

Социологическая служба страны N провела опрос среди совершеннолетних граждан по теме: «Какие категории товаров вы чаще всего покупаете онлайн?» Результаты опроса в процентах от числа опрошенных приведены в диаграмме.



Найдите в приведённом списке выводы, которые можно сделать на основе диаграммы, и запишите цифры, под которыми они указаны.

- 1) Более половины опрошенных чаще всего покупают в интернет-магазинах одежду.
- 2) Около трети опрошенных часто покупают в онлайн-магазинах товары по уходу за собой.
- 3) Каждый десятый опрошенный осуществляет заказ мебели онлайн.
- 4) Доставка еды является самым популярным интернет-сервисом.
- 5) Равные доли опрошенных заказывают онлайн электронику и печатную продукцию.

Ответ: \_\_\_\_\_.

**38**

Прочитайте приведённый ниже текст, в котором пропущен ряд слов. Выберите из предлагаемого списка слова, которые необходимо вставить на места пропусков.

Международное разделение труда – это специализация стран на производстве определённых \_\_\_\_ (А) товаров, для изготовления которых в стране имеются более дешёвые факторы \_\_\_\_ (Б) и предпочтительные условия в сравнении с другими странами. При такой специализации потребности стран удовлетворяются собственным производством, а также посредством международной \_\_\_\_ (В); это также способ организации мировой экономики, при котором предприятия разных стран специализируются на изготовлении определённых товаров и услуг, обмениваясь ими.

Международное разделение труда опирается на устойчивую и экономически выгодную \_\_\_\_ (Г) отдельных стран по производству определённых видов продукции и ведёт к взаимному обмену результатами производства.

Международное разделение труда, являясь функцией развития производительных сил и международных экономических отношений, создаёт \_\_\_\_ (Д) условия для усиления взаимосвязи и взаимозависимости воспроизводственных процессов стран мира, порождает \_\_\_\_ (Е) к взаимовыгодному экономическому сотрудничеству.

Слова в списке даны в именительном падеже. Каждое слово может быть использовано только один раз.

Выбирайте последовательно одно слово за другим, мысленно заполняя каждый пропуск. Обратите внимание на то, что слов в списке больше, чем Вам потребуется для заполнения пропусков.

Список терминов:

- 1) объективный
- 2) вид
- 3) производства
- 4) научный
- 5) стимул
- 6) доход
- 7) путь
- 8) торговля
- 9) специализация

В данной ниже таблице приведены буквы, обозначающие пропущенные слова. Запишите в таблицу под каждой буквой номер выбранного Вами слова.

Ответ:

А	Б	В	Г	Д	Е

**39**

Выберите в представленном ниже списке рыночные операции, включённые в подсчёт ВВП, и запишите цифры, под которыми они указаны

- 1) покупка рестораном мяса по оптовым ценам
- 2) покупка студентом контрафактного мобильного телефона
- 3) покупка домохозяйкой овощей на рынке
- 4) покупка автомобилистом бензина для своей машины
- 5) покупка магазином молочной продукции у фермерского хозяйства

Ответ: \_\_\_\_\_.

**40**

Установите соответствие между банковскими функциями и видами банков: к каждой позиции, данной в первом столбце, подберите соответствующую позицию из второго столбца

#### ФУНКЦИИ БАНКА

- А) эмиссия денег
- Б) надзор за деятельностью кредитных организаций
- В) привлечение и накопление временно свободных денежных средств
- Г) осуществление валютного регулирования
- Д) посредничество в кредитовании граждан

#### ВИД БАНКА

- 1) коммерческий
- 2) центральный

Запишите в таблицу выбранные цифры под соответствующими буквами.

Ответ:

А	Б	В	Г	Д

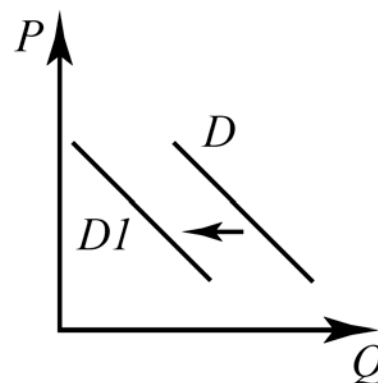
**41** В городе X на рынке сотовой связи присутствуют три компании. Найдите в приведённом ниже списке характеристики данного рынка и запишите цифры, под которыми они указаны.

- 1) местный рынок
- 2) монопсония
- 3) рынок товаров
- 4) национальный рынок
- 5) олигополия
- 6) рынок услуг

Ответ: \_\_\_\_\_.

**42** На рисунке изображена ситуация на рынке мягкой мебели: линия спроса  $D$  переместилась в новое положение  $D1$ . (На графике  $P$  – цена товара,  $Q$  – количество товара.)

Какие из перечисленных факторов могут вызвать такое изменение? Запишите цифры, под которыми они указаны.



- 1) существенное подорожание мебельной древесины
- 2) падение продаж на рынке недвижимости
- 3) падение доходов населения
- 4) расширение ассортимента мебельных магазинов
- 5) снижение прибыли производителей мягкой мебели

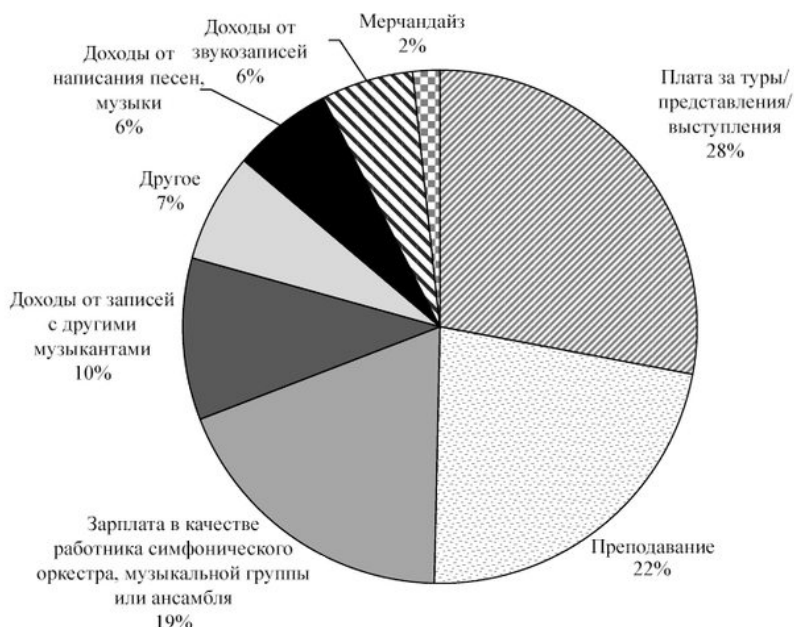
Ответ: \_\_\_\_\_.



43

Социологическая служба страны N провела среди профессиональных музыкантов опрос по теме: «Что является для Вас основным источником дохода?» Результаты опроса в процентах от числа опрошенных приведены в диаграмме.

Рис. 2: Среднее распределение дохода от музыки по основным источникам, все респонденты



Найдите в приведённом списке выводы, которые можно сделать на основе диаграммы, и запишите **цифры**, под которыми они указаны.

- 1) Более трети опрошенных указали, что основную часть их доходов составляет плата за туры и выступления.
- 2) Равные доли опрошенных назвали доходы от звукозаписей и написания песен основными источниками доходов.
- 3) Каждый десятый опрошенный получает основные доходы от записей с другими музыкантами.
- 4) Менее четверти опрошенных основные доходы получают от преподавания.
- 5) Доходы большинства опрошенных формируются из зарплаты в качестве работника музыкальной группы, ансамбля или оркестра.

Ответ: \_\_\_\_\_.

44

Прочитайте приведённый ниже текст, в котором пропущен ряд слов. Выберите из предлагаемого списка слова, которые необходимо вставить на места пропусков.

Глобализация мировой экономики – это преобразование мирового пространства в единую зону, где свободно перемещаются информация, товары и \_\_\_\_\_ (А), капитал, где непринуждённо распространяются идеи

и беспрепятственно передвигаются их носители, стимулируя развитие современных \_\_\_\_\_(Б) и отлаживая механизмы их взаимодействия. Глобализация подразумевает образование единого международного экономического, \_\_\_\_\_(В) и культурно-информационного пространства.

Глобализация вызвана объективными факторами мирового \_\_\_\_\_(Г), углублением международного разделения труда, научно-техническим прогрессом в области транспорта и средств связи, сокращающим так называемое экономическое расстояние между странами. Позволяя получать необходимую \_\_\_\_\_(Д) из любой точки планеты в реальном режиме времени и быстро принимать решения, современные системы телекоммуникаций беспрецедентно облегчают организацию международного инвестирования \_\_\_\_\_(Е), кооперирования производства и маркетинга. В условиях информационного интегрирования мира намного ускоряются передача технологий и заимствование иностранного опыта хозяйствования.

Слова в списке даны в именительном падеже. Каждое слово может быть использовано только один раз.

Выбирайте последовательно одно слово за другим, мысленно заполняя каждый пропуск. Обратите внимание на то, что слов в списке больше, чем Вам потребуется для заполнения пропусков.

Список терминов:

- 1) институт
- 2) информация
- 3) развитие
- 4) особенность
- 5) фактор
- 6) капитал
- 7) правовой
- 8) национальный
- 9) услуга

В данной ниже таблице приведены буквы, обозначающие пропущенные слова. Запишите в таблицу под каждой буквой номер выбранного Вами слова.

А	Б	В	Г	Д	Е
Ответ:					