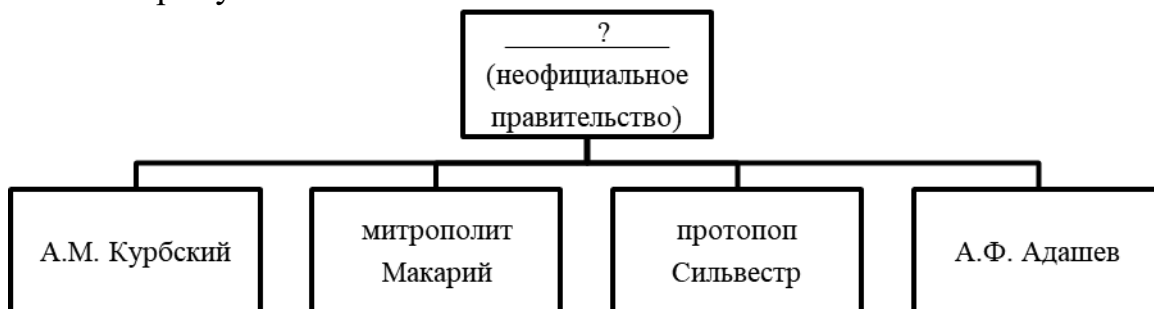


## Российское государство во второй половине XV– XVII в.

### Задания для тренировки

1

Заполните пропуск в схеме.



Ответ: \_\_\_\_\_.

**Ознакомьтесь с приведённым перечнем и изображениями памятников культуры и выполните задания 2 и 3.**

- 1) Домострой
- 2) «Житие протопопа Аввакума»
- 3) «Хожение за три моря»

4)



5)



2

Какие из приведённых памятников культуры были созданы в XVII в.? Выберите **два** памятника культуры и запишите в таблицу цифры, под которыми они указаны.

Ответ:

|  |  |
|--|--|
|  |  |
|--|--|

3

Создателем какого из приведённых памятников культуры был Афанасий Никитин? Укажите порядковый номер этого памятника культуры.

Ответ:

|  |
|--|
|  |
|--|

**4** Запишите термин, о котором идёт речь.

Часть территории Русского царства, не включённая Иваном IV в Опричнину.

Ответ: \_\_\_\_\_.

**5** Ниже приведён перечень терминов. Все они, за исключением одного, относятся к периоду правления Ивана Грозного.

1) губной староста; 2) стоглавый собор; 3) опричнина; 4) избранная рада; 5) верховники.

Найдите и запишите порядковый номер термина, «выпадающего» из данного ряда.

Ответ:

**Рассмотрите схему и выполните задания 6–8.**



**6** Укажите век, когда произошли события, обозначенные на схеме стрелками. Ответ запишите словом.

Ответ: \_\_\_\_\_.

**7** Назовите военачальника, командующего войском, поход которого обозначен буквой «А» на схеме.

Ответ: \_\_\_\_\_.

8

Прочитайте отрывок из сочинения историка и укажите цифру, обозначающую на схеме город, рядом с которым произошли описанные события.

«Решающее сражение произошло на реке Шелони. Ополчение, имея значительное превосходство в силах, сражалось неохотно; москвичи же, по словам близких к Москве летописцев, «как львы рыкающие», набросились на противника и более 20 вёрст преследовали отступающих».


Ответ:

***Ознакомьтесь с приведённым перечнем и изображениями памятников культуры и выполните задания 9 и 10.***

- 1) «Слово о полку Игореве»
- 2) «Сказание о великом князе Московском»
- 3) «Поучение детям»
- 4)



5)



9

Какие памятники культуры из представленных были созданы во время правления Ивана IV Грозного? Укажите номера, под которыми они обозначены.

Ответ: \_\_\_\_\_.

10

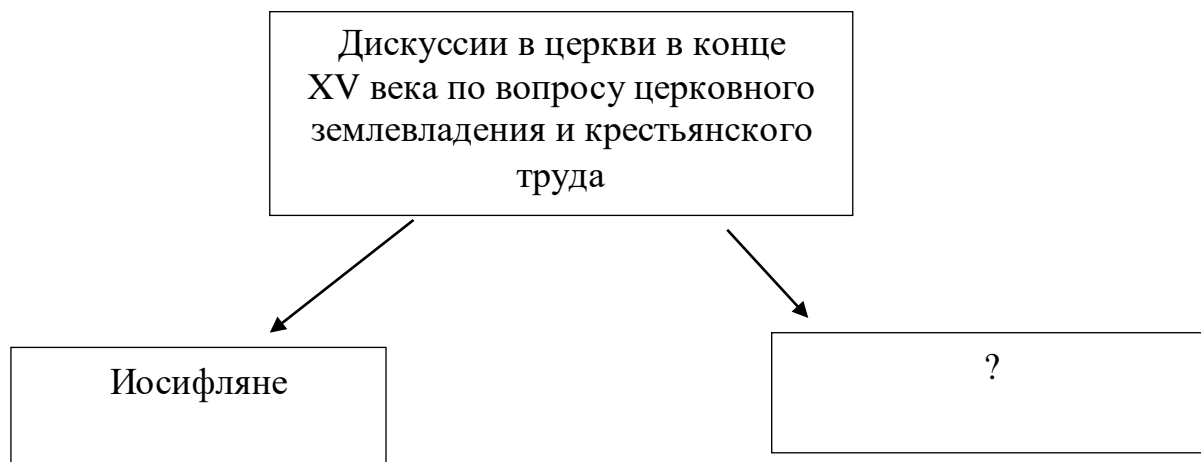
Укажите номер, которым обозначен памятник культуры, посвящённый походу Новгород-Северского князя на половцев.

Ответ:





**14** Заполните пропуск в схеме.



Ответ: \_\_\_\_\_.

**Ознакомьтесь с перечнем и изображениями памятников культуры и выполните задания 15 и 16.**

- 1) «Поучение детям»
- 2) «Слово о законе и благодати»
- 3) послание монаха Филофея «Москва – третий Рим»
- 4) 5)



**15** Какие памятники из представленных появились в XVI веке? Укажите номера, которыми они обозначены.

Ответ:

|  |  |
|--|--|
|  |  |
|--|--|

- 16** Какой памятник из представленных был создан в XII веке? Укажите номер, которым он обозначен.

Ответ:

- 17** Запишите термин, о котором идёт речь.

Сборник законов, созданный в 1497 году, получил название «\_\_\_\_\_ Ивана III».

Ответ: \_\_\_\_\_.

- 18** Какие из перечисленных городов были присоединены к Российскому государству в XVI веке? Выберите два города и запишите в таблицу цифры, под которыми они указаны.

- 1) Нижний Новгород
- 2) Тверь
- 3) Киев
- 4) Казань
- 5) Астрахань

Ответ: 

|  |  |
|--|--|
|  |  |
|--|--|

**Ознакомьтесь с перечнем и изображениями памятников культуры и выполните задания 19 и 20.**

- 1) фреска «Троица» Андрея Рублёва
- 2) «Сказание о разорении Рязани Батыем»
- 3) «Слово о законе и благодати»



**19** Какие памятники из представленных созданы в XV веке? Укажите номера, которыми они обозначены.

Ответ: 

|  |  |
|--|--|
|  |  |
|--|--|

**20** Какой памятник из представленных выполнен в стиле «нарышкинского барокко»? Укажите номер, которым он обозначен.

Ответ: 

|  |
|--|
|  |
|--|

**21** Ниже приведён перечень терминов (названий). Все они, за исключением одного, относятся к событиям, явлениям истории России XVI в.

*1) Земский собор; 2) копейка; 3) раскольники; 4) опричнина; 5) стрельцы.*

Найдите и запишите порядковый номер термина, «выпадающего» из данного ряда.

Ответ: 

|  |
|--|
|  |
|--|