

С древнейших времён до второй половины XVII в.

Задания для тренировки

1

Установите соответствие между фрагментами исторических источников и их краткими характеристиками: к каждому фрагменту, обозначенному буквой, подберите по две соответствующие характеристики, обозначенные цифрами.

ФРАГМЕНТЫ ИСТОЧНИКОВ	
А)	«Заложил [князь] город великий, у того же града Золотые ворота; заложил и церковь святой Софии, митрополию, и затем церковь на Золотых воротах – святой Богородицы Благовещения, затем монастырь святого Георгия и святой Ирины. И стала при нём вера христианская плодиться и расширяться, и черноризцы стали умножаться, и монастыри появляться. И любил [князь] церковные уставы, попов любил немало, особенно же черноризцев, и книги любил, читая их часто и ночью, и днём. И собрал писцов многих, и переводили они с греческого на славянский язык... Отец ведь его... землю вспахал и размягчил, то есть крещением просветил. Этот же засеял книжными словами сердца верующих людей, а мы пожинаем, учение принимая книжное».
Б)	«Сказал [князь] матери своей и боярам своим: «Не любо мне сидеть в Киеве, хочу жить в Переяславце на Дунае – ибо там середина земли моей, туда стекаются все блага: из Греческой земли – золото, паволоки, вина, различные плоды, из Чехии и из Венгрии серебро и кони, из Руси же меха и воск, мёд и рабы». Отвечала ему Ольга: «Видишь – я больна; куда хочешь уйти от меня?» – ибо она уже разболелась. И сказала: «Когда похоронишь меня, – отправляйся куда захочешь». Через три дня Ольга умерла, и плакали по ней плачем великим сын её, и внуки её, и все люди... Пришёл [князь] в Переяславец, и затворились болгары в городе. И вышли болгары на битву с [князем], и была сеча велика, и стали одолевать болгары. И сказал [князь] своим воинам: «Здесь нам и умереть; постоим же мужественно, братья и дружина!». И к вечеру одолел Святослав, и взял город приступом, и послал к грекам со словами: «Хочу идти на вас и взять столицу вашу, как и этот город».

ХАРАКТЕРИСТИКИ

- 1) Описываемые события относятся к XI в.
- 2) Отцом князя, о котором говорится в тексте, был Рюрик.
- 3) Князь, о котором говорится в тексте, разгромил Хазарский каганат.
- 4) К тому же веку, в котором происходили описываемые в тексте события, относятся события, описываемые в «Слове о полку Игоревом».
- 5) Князь, о котором говорится в тексте, погиб от рук печенегов.
- 6) Князь, о котором говорится в тексте, вошёл в историю под прозвищем Мудрый.

Запишите в таблицу выбранные цифры под соответствующими буквами.

Ответ:	Фрагмент А		Фрагмент Б	

2 Прочтите отрывок из письма.

«Чего же ты, собака, хвастаешься военной храбростью и хвалишь за неё других собак и изменников? Господь наш Иисус Христос сказал: «если царство разделится, то оно не сможет устоять»; кто же может вести войну против врагов, если его царство раздирается междоусобиями? ...И выходит, что ты – ничтожество; дома ты – изменник, а в военных делах ничего не понимаешь, если хочешь утвердить храбрость на самовольстве и междоусобных бранях... А что ты писал, что будто бы «[ты и твои друзья бояре-воеводы] покорили и подчинили прегордые царства под властью которых были ваши предки», – это справедливо, если речь идёт об одном Казанском царстве, под Астраханью же вы не только не воевали, но и в мыслях не были...

[Ливонские] города, по-твоему, достались нам благодаря старанию наших изменников. Как же ты научился от отца своего, дьявола, говорить и писать ложь! Вспомни, как, когда началась война с ливонцами... сколько мы слышали укоризненных слов от попа Сильвестра, от Алексея (Адашева) и от вас – не стоит подробно и рассказывать!»

Используя отрывок и знания по истории, выберите в приведённом списке три верных суждения.

Запишите в таблицу **цифры**, под которыми они указаны.

- 1) Автор письма – царь Алексей Михайлович.
- 2) Письмо было написано в XVI в.
- 3) Адресат письма, с точки зрения автора, изменник.
- 4) В письме упоминаются члены Избранной рады.
- 5) Автор письма указывает на единодушие в отношении к войне, в период которой было написано письмо.
- 6) В том же веке, в котором было написано данное письмо, русские земли освободились от ордынской власти.

Ответ:

--	--	--

3

Установите соответствие между фрагментами исторических источников и их краткими характеристиками: к каждому фрагменту, обозначенному буквой, подберите по две соответствующие характеристики, обозначенные цифрами.

ФРАГМЕНТЫ ИСТОЧНИКОВ	
А)	«Когда же приблизились немцы, то проводили о них стражи. Князь же... приготовился к бою, и пошли они друг против друга, и покрылось озеро Чудское множеством тех и других воинов... Была же тогда суббота, и когда взошло солнце, сошлись противники. И была сеча жестокая, и стоял треск от ломающихся копий и звон от ударов мечей, и казалось, что двинулось замёрзшее озеро, и не было видно льда, ибо покрылось оно кровью. А это слышал я от очевидца, который поведал мне, что видел воинство Божие в воздухе, пришедшее на помощь [князю]. И так победил врагов помощью Божьей, и обратились они в бегство, [Князь] же рубил их, гоня, как по воздуху, и некуда было им скрыться».
Б)	«В тот год сказала дружина [князю]: «Отроки Свенельда изоделись оружием и одеждой, а мы наги. Пойдем, князь, с нами за данью, и себе добудешь, и нам». И послушал их [князь] – пошёл к древлянам за данью и прибавил к прежней дани новую, и творили насилие... мужи его. Когда же шёл он назад, – поразмыслив, сказал своей дружине: «Идите с данью домой, а я возвращусь и похожу ещё». И отпустил дружину, а сам с малой частью дружины вернулся, желая большего богатства. И послали к нему, говоря: «Зачем идёшь опять? Забрал уже всю дань». И не послушал их [князь]; и ..., убили [князя] и дружинников его».

ХАРАКТЕРИСТИКИ

- 1) Описываемые события относятся к X в.
- 2) В том же веке, к которому относятся описываемые в тексте события, произошло нашествие Батыя на Русь.
- 3) Современником князя, о котором идёт речь в тексте, был летописец Нестор.
- 4) Сын князя, о котором говорится в тексте, стал первым в династии московских князей.
- 5) Князь, о котором говорится в тексте, вошёл в историю под прозвищем Вещий.
- 6) Князь, о котором говорится в тексте, был сыном легендарного основателя династии русских князей.

Запишите в таблицу выбранные цифры под соответствующими буквами.

Ответ:	Фрагмент А		Фрагмент Б	

4

Прочтите отрывок из Земского собора.

«Да в прошлых годах присылал ко Государю – Царю... всяя Руси запорожский гетман Богдан Хмельницкий и всё войско Запорожское посланников своих много раз, что паны рада и вся Речь Посполитая на православную христианскую веру греческого закона и на святые Божии восточные церкви восстали и гонение учинили большое. И их... от истинной православной христианской веры, в которой они издавна живут, учили отлучать и неволить к своей римской вере. И церкви Божии запечатали, а в иных учинили унию, и всякие над ними гонения, и поругания, и злости нехристианские чинили... И они, [казаки] ...у Царского Величества милости просят, чтоб он, Великий христианский Государь, жалея благочестивые православные христианские веры и святых Божиих церквей и их, православных христиан, невинные крови пролития, умилился над ними, велел их принять под свою царского величества высокую руку. И учинил им на гонителей христианские веры и Святых Божиих Церквей, на поляков, помочь и послал войска свои...

И по тому по всему приговорили: гетмана Богдана Хмельницкого и всё войско Запорожское с городами и с землями принять».

Используя отрывок и знания по истории, выберите в приведённом списке три верных суждения.

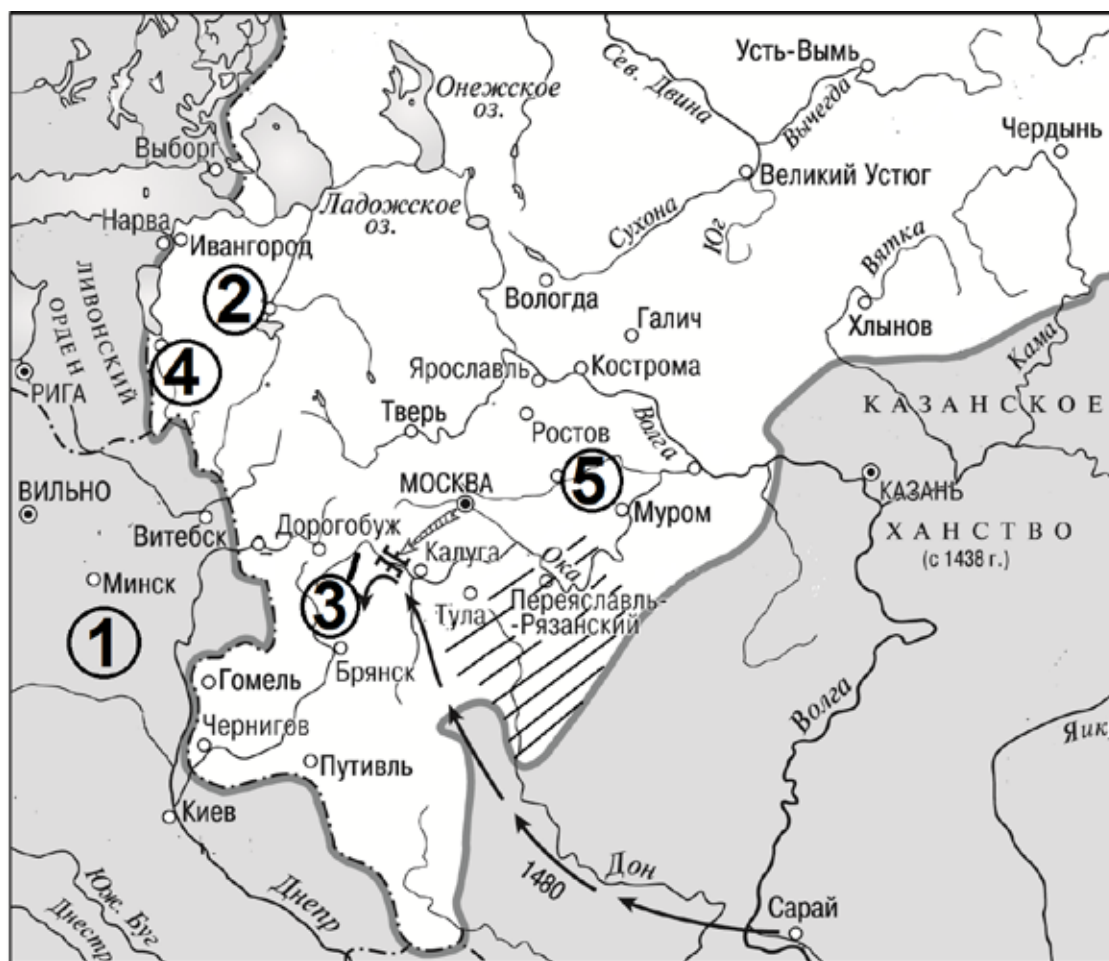
Запишите в таблицу цифры, под которыми они указаны.

- 1) Царь, об обращении к которому говорится в тексте, – Иван Грозный.
- 2) В тексте сообщения указываются религиозные причины конфликта, о котором в нём говорится.
- 3) В том же столетии, к которому относится проведение собора, отрывок из решения которого приводится, в России были отменены кормления.
- 4) Менее, чем за пять лет до собора, отрывок из решения которого приводится, в России был принят новый свод законов.
- 5) В результате начавшейся из-за принятого собором решения войны Россия вернула Смоленск.
- 6) Одним из участников собора, отрывок из решения которого приводится в задании, был А.Ф. Адашев.

Ответ:

--	--	--

Рассмотрите схему и выполните задания 5–8.



- 5** Назовите московского князя, в правление которого происходили события, обозначенные на схеме.

Ответ: _____.

- 6** Напишите название реки, обозначенной на схеме цифрой «3».

Ответ: _____.

- 7** Напишите название города, обозначенного на схеме цифрой «2».

Ответ: _____.

8

Какие суждения, относящиеся к событиям, обозначенным на схеме, являются верными? Выберите три суждения из шести предложенных. Запишите в таблицу цифры, под которыми они указаны.

- 1) Поход, обозначенный на схеме стрелками, возглавлял Мамай.
- 2) Поход, обозначенный на схеме стрелками, проходил через Чернигов.
- 3) Город, обозначенный на схеме цифрой «2», за два года до событий, которым посвящена схема, вошёл в состав Московского государства.
- 4) Город, обозначенный на схеме цифрой «4», вошёл в состав Московского государства в том же столетии, к которому относятся обозначенные на схеме события.
- 5) Город, обозначенный на схеме цифрой «5», за сто лет до событий, обозначенных на схеме, считался главным городом русских земель.
- 6) Заштрихованные на схеме территории были включены в состав Московского государства в XVI в.

Ответ:

--	--	--

9

Запишите термин, о котором идёт речь.

Впервые созданный в 1549 г. и просуществовавший до середины XVII в. общегосударственный сословно-представительный орган власти при царе с законосовещательными и иными (вплоть до избрания новых царей) функциями, включавший бояр, духовенство, дворян, горожан.

Ответ: _____.

10

Установите соответствие между фрагментами исторических источников и их краткими характеристиками: к каждому фрагменту, обозначенному буквой, подберите по две соответствующие характеристики, обозначенные цифрами.

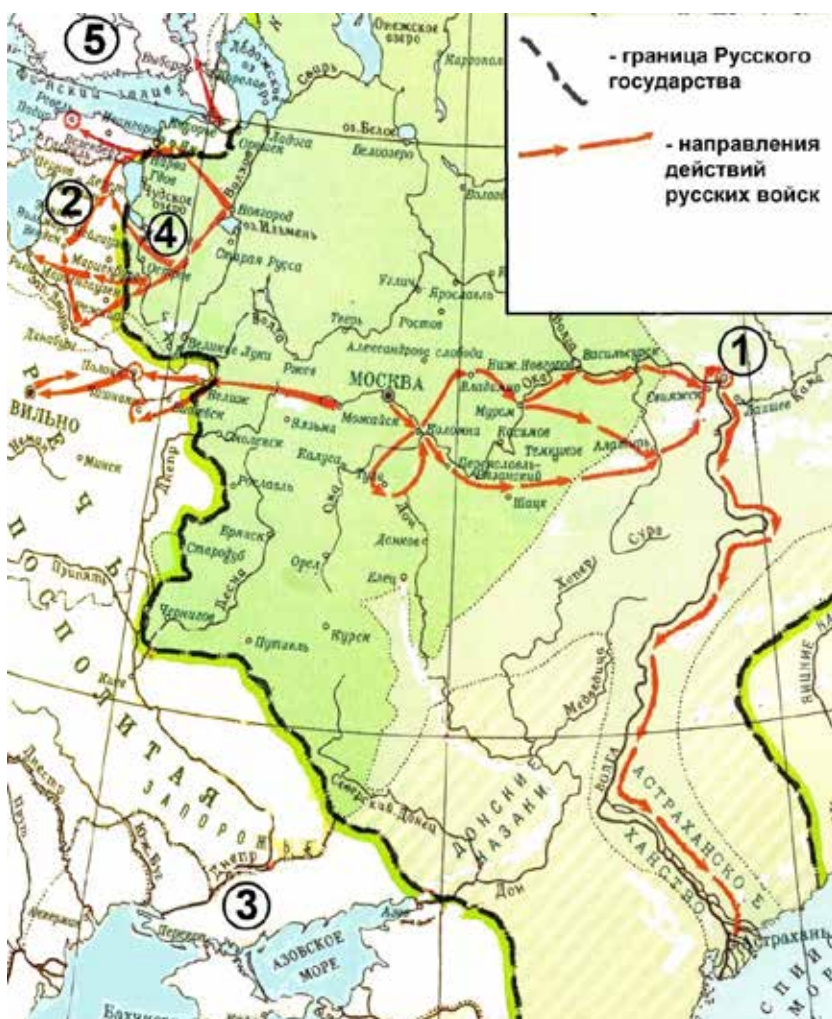
ФРАГМЕНТЫ ИСТОЧНИКОВ	
А)	<p>«Пленив Владимир, пошли татары... на великого князя Юрия. Часть татар пошла к Ростову, а другая часть к Ярославлю, а иные пошли на Волгу на Городец... И нет ни одного места, и мало таких деревень и сёл, где бы не воевали они на Суздальской земле...»</p> <p>Пришла весть к великому князю Юрию: "Владимир взят, и церковь соборная, а епископ, и княгини с детьми, и со снохами, и с внучатами скончались в огне, ...люди перебиты, а теперь татары идут на тебя..."</p> <p>...И пришли ...татары на [реку] против великого князя Юрия.</p> <p>Услышав об этом, князь Юрий с братом своим Святославом, и с племянниками своими Васильком, и Всеволодом, и Владимиром, и с воинами своими пошёл против поганых. И встретились оба войска, и была битва жестокой, и побежали наши перед иноплемениками. И тут убит был князь Юрий...»</p>
Б)	<p>«Пришёл Святополк с печенегам в силе грозной, и Ярослав собрал множество воинов и вышел против него на [реку]. Ярослав стал на место, где убили Бориса, и, воздев руки к небу, сказал: "Кровь брата моего вопиет к тебе, Владыка! Отомсти за кровь праведника сего..."</p> <p>Помолился и сказал: "Братья мои! Хоть и отошли вы телом отсюда, но молитвою помогите мне против врага сего – убийцы и гордеца". И когда сказал так, двинулись противники друг на друга... К вечеру же одолел Ярослав, а Святополк бежал. ...Не мог он вытерпеть на одном месте, и пробежал он через Польскую землю, гонимый Божиим гневом, и прибежал в пустынное место между Польшей и Чехией, и там бедственно окончил жизнь свою...</p> <p>Ярослав же сел в Киеве, утёр пот с дружиною своею, показав победу и труд велик».</p>

ХАРАКТЕРИСТИКИ

- 1) События относятся к XI в.
- 2) Река, о которой говорится в тексте, – Сить.
- 3) Современником описываемых событий был князь Александр Невский.
- 4) Один из упоминаемых участников событий вошёл в историю под прозвищем «Окаянный».
- 5) Река, о которой говорится в тексте, – Калка.
- 6) События относятся к XII в.

Ответ:	Фрагмент А		Фрагмент Б	

Рассмотрите схему и выполните задания 11–14.



- 11** Назовите русского царя, в правление которого сложились обозначенные на схеме границы Русского государства и происходили военные действия, обозначенные на схеме стрелками.

Ответ: _____.

- 12** Напишите название города, обозначенного на схеме цифрой «1».

Ответ: _____.

- 13** Напишите название государства, которому принадлежала территория, обозначенная на схеме цифрой «5».

Ответ: _____.

14

Какие суждения, относящиеся к событиям, обозначенным на схеме, являются верными? Выберите три суждения из шести предложенных. Запишите в таблицу цифры, под которыми они указаны.

- 1) На схеме среди прочих обозначены события Смоленской войны.
- 2) Государь, при котором велись военные действия, обозначенные на схеме, был первым, кто венчался на царствие.
- 3) Цифрой «2» на схеме обозначена существовавшая на момент начала военных действий территория Ливонского ордена.
- 4) В конце правления русского царя, при котором происходили обозначенные на схеме события, государство, обозначенное на схеме цифрой «5», уступило Русскому государству значительную часть своей территории.
- 5) Обозначенный на схеме цифрой «4» русский город выдержал длительную осаду в ходе войны, события которой частично обозначены на схеме.
- 6) Обозначенное на схеме цифрой «3» государство было союзником Русского государства в период всех обозначенных на схеме военных действий.

Ответ:

--	--	--

15

Запишите термин, о котором идёт речь.

Система назначения на высшие должности в государстве и в войске, в которой ключевую роль играли степень знатности рода и заслуги предков, отменённая в 1682 г.

Ответ: _____.

16

Установите соответствие между фрагментами исторических источников и их краткими характеристиками: к каждому фрагменту, обозначенному буквой, подберите по две соответствующие характеристики, обозначенные цифрами.

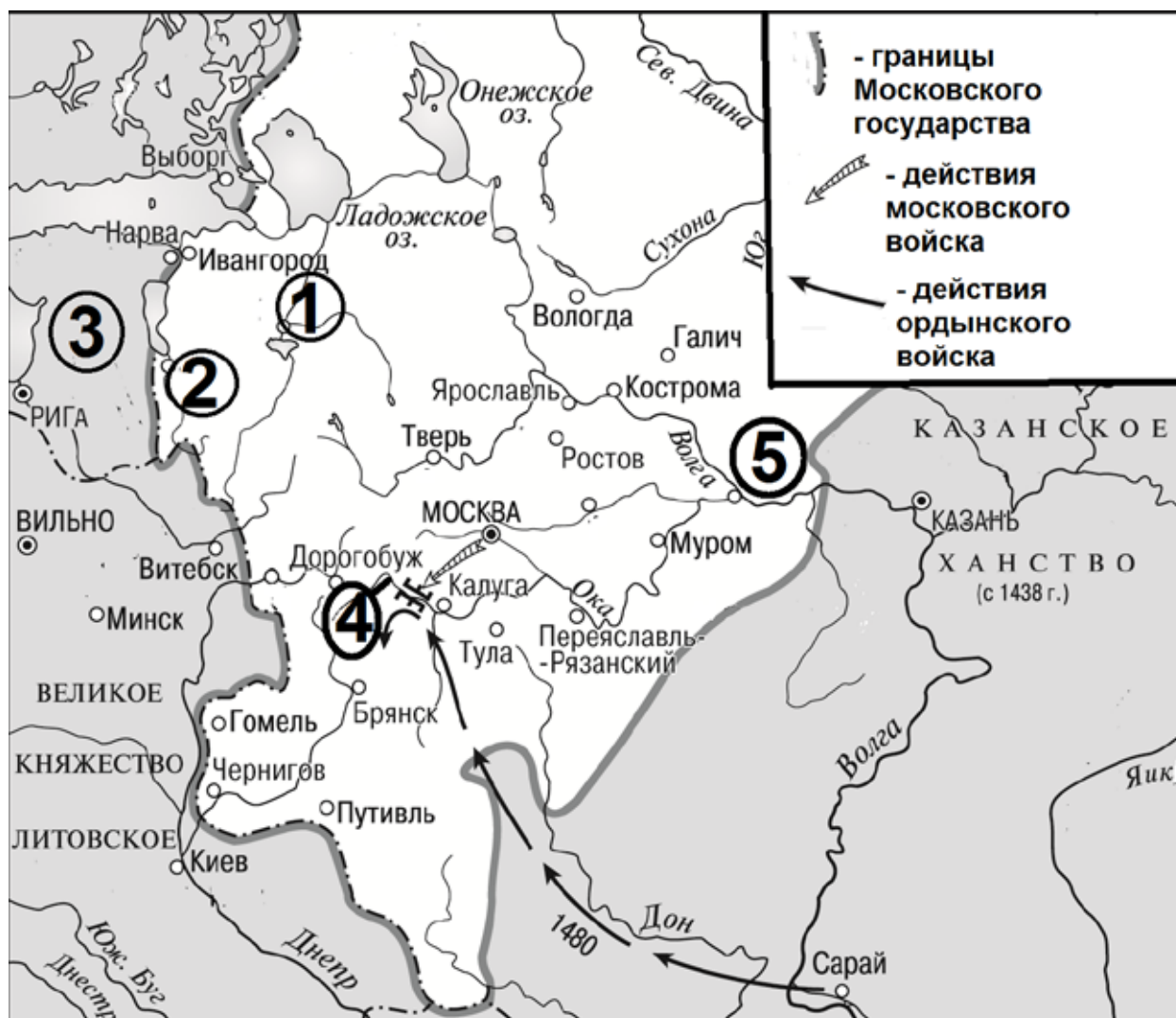
ФРАГМЕНТЫ ИСТОЧНИКОВ	
А)	«Затем послал [князь] по всему городу сказать: «Если не придёт кто завтра на реку – будь то богатый, или бедный, или нищий, или раб, – будет мне врагом». Услышав это, с радостью пошли люди, ликуя и говоря: «Если бы не было это хорошим, не приняли бы этого князь наш и бояре». На следующий же день вышел [князь] с попами царицыными и корсунскими на [реку], и сошлось там людей без числа. Вошли в воду и стояли там одни до шеи, другие по грудь, молодые же у берега по грудь, некоторые держали младенцев, а уже взрослые бродили, попы же, стоя, совершали молитвы... Люди же, крестившись, разошлись по домам. [Князь] же был рад, что познал Бога сам и люди его... И... приказал рубить церкви и ставить их по тем местам, где прежде стояли кумиры».
Б)	«Пришла весть русским, что пришли татары осматривать русские полки; тогда Даниил Романович и другие князья сели на коней и погнались, чтобы увидеть татарские войска. И, увидев их, послали к великому князю Мстиславу Романовичу, призывая: «Мстислав и другой Мстислав! Не стойте, пойдем против них»... Князь же Мстислав Мстиславич Галицкий повелел Даниилу Романовичу перейти реку... с полками, а сам отправился вслед за ними... А оба Мстислава оставались в стане, не зная об этом: Мстислав Галицкий не сказал им ничего из зависти, ибо между ними была великая распря. И так встретились полки... Но вскоре половцы обратились в бегство, ничего не достигнув, и во время бегства потоптали станы русских князей. А князья не успели вооружиться против них; и пришли в смятение русские полки... И были побеждены русские князья, и не бывало такого от начала Русской земли».

ХАРАКТЕРИСТИКИ

- 1) Князь, упоминаемый в тексте, погиб в результате восстания древлян.
- 2) Описываемые события относятся к XIII в.
- 3) Современником описываемых событий был Юрий Долгорукий.
- 4) Река, близ которой происходили данные события – Калка.
- 5) Описываемые события относятся к X в.
- 6) Участником событий был князь Владимир Святославович.

Ответ:	Фрагмент А		Фрагмент Б	

Рассмотрите схему и выполните задания 17–20.



- 17** Назовите московского князя, в правление которого происходили обозначенные на схеме военные действия.

Ответ: _____.

- 18** Назовите предводителя ордынского войска, действия которого обозначены на схеме.

Ответ: _____.

- 19** Напишите название реки, обозначенной на схеме цифрой «4».

Ответ: _____.

20

Какие суждения, относящиеся к событиям, обозначенным на схеме, являются верными? Выберите три суждения из шести предложенных. Запишите в таблицу цифры, под которыми они указаны.

- 1) В результате событий, обозначенных на схеме, Москва была захвачена противником и сожжена.
- 2) Московский князь, при котором происходили обозначенные на схеме события, присоединил к своему княжеству город, обозначенный на схеме цифрой «1».
- 3) В том же веке, к которому относятся события, обозначенные на схеме, к Московскому государству был присоединён город, обозначенный на схеме цифрой «2».
- 4) Князья, правившие в городе, обозначенном на схеме цифрой «5», за сто с лишним лет до обозначенных на схеме военных действий соперничали с Москвой за ярлык на великое княжение Владимирское.
- 5) Обозначенное на схеме цифрой «3» государство было организовано на основе духовно-рыцарского ордена.
- 6) Поход ордынского войска, обозначенный на схеме, проходил через город Муром.

Ответ:

--	--	--

21

Ниже приведён список терминов, понятий, названий. Все они, за исключением двух, относятся к XVII в.

- 1) *Немецкая слобода*; 2) *мещане*; 3) *Новоторговый устав*; 4) *вотчины*; 5) *Генеральный регламент*; 6) *Соборное уложение*.

Найдите и запишите порядковые номера терминов, понятий, названий, относящихся к другому историческому периоду.

Ответ:

--	--

22

Что из перечисленного относится к правлению Владимира Святославовича? Выберите три ответа и запишите в таблицу цифры, под которыми они указаны.

- 1) принятие Устава о резах
- 2) введение вместо полюдья системы повоза
- 3) русско-византийская война
- 4) строительство Десятинной церкви
- 5) борьба с половцами
- 6) крещение Руси

Ответ:

--	--	--

23

Прочтите отрывок из исторического источника.

«Вор и богоотступник и изменник донской казак !
В прошлом ...году, забыв ты страх божий и великого государя... крестное целование и ево государскую милость, ему, великому государю, изменил, и собрався, пошёл с Дону для воровства на Волгу. И на Волге многие пакости починил, и патриаршие и монастырские суда, и иных многих промышленных людей суда ж и струги на Волге и под Астраханью погромил и многих людей побил...

Ты ж, вор, приходил к Терку ...и многое воровство починил, и в шаховской области многое воровство учинил. А на море шаховых торговых людей побивал и животы грабил, и города шаховы поймал и разорил, и тем у великого государя с шаховым величеством ссору учинил многую...

А как ты к Астрахани пришёл, и ты товарищей своих посылал говорить и прельщать воровски астраханских служилых и всяких чинов людей, чтоб город сдали, и боярина и воевод выдали... И астраханские служилые люди своровали и изменили великому государю...

Ты ж, вор ...боярина и воевод князя Ивана Семеновича Прозоровского, взяв из соборной церкви, с роскату бросил. И брата ево князя Михаила, и дьяков, и дворян, и полковников, и голов стрелецких московских, и астраханских, и детей боярских ...разными муками, побил, а иных в воду пометал мучительно, и животы их пограбил».

Используя отрывок и знания по истории, выберите в приведённом списке три верных суждения.

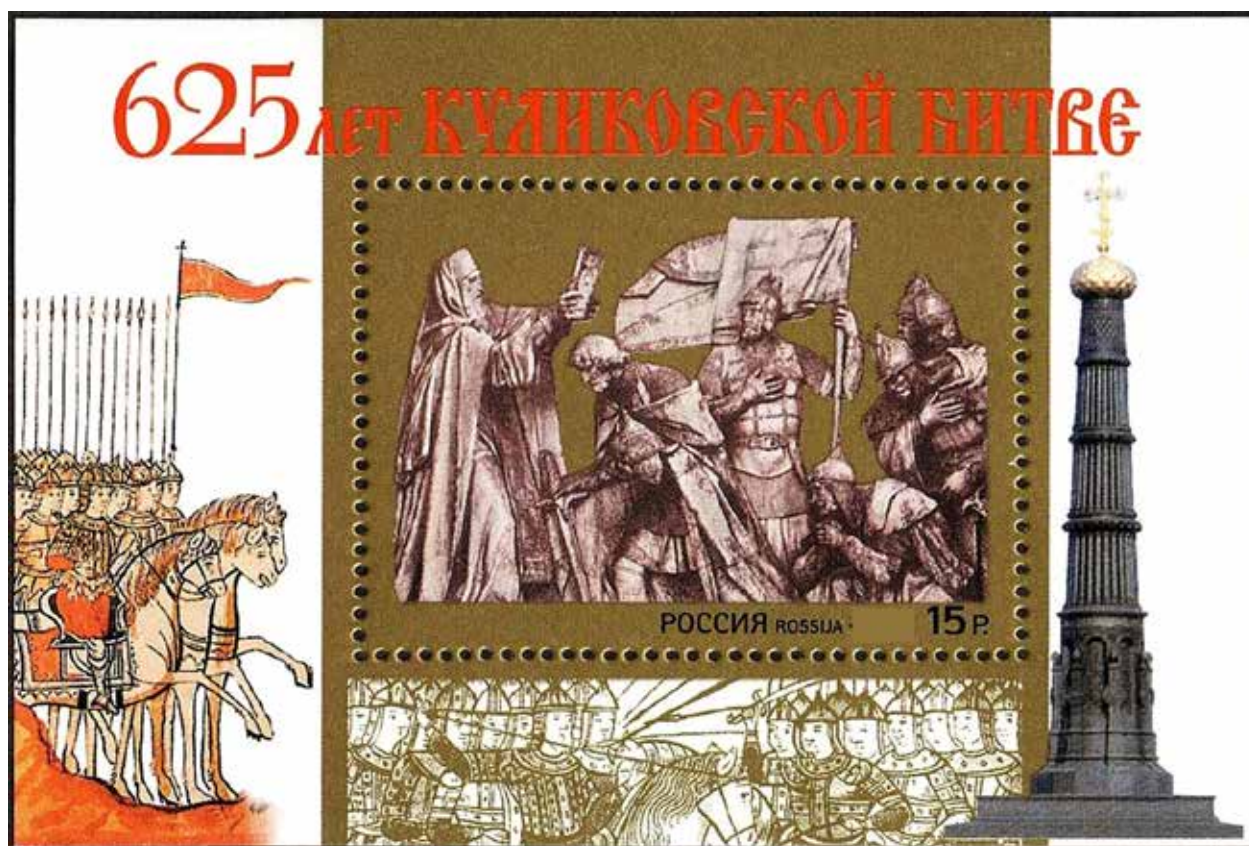
Запишите в таблицу цифры, под которыми они указаны.

- 1) Пропущенное в тексте имя – Емельян Пугачёв.
- 2) Создание источника относится к царствованию Алексея Михайловича.
- 3) В период того же царствования, к которому относится создание источника, в России произошёл церковный раскол.
- 4) В период того же царствования, к которому относится создание источника, в России была издана Жалованная грамота городам.
- 5) Автор документа считает, что действия адресата письма осложнили внешнеполитические отношения России с соседним государством.
- 6) Автор документа утверждает, что астраханские служилые люди не поддались уговорам исторического деятеля, обращение к которому содержит источник.

Ответ:

--	--	--

Рассмотрите изображение и выполните задания 24, 25.



24

Какие суждения о данном изображении являются верными? Выберите два суждения из пяти предложенных. Запишите в таблицу цифры, под которыми они указаны.

- 1) Данная марка была выпущена в период руководства Президента России Б.Н. Ельцина.
- 2) В битве, юбилею которой посвящена марка, участвовал московский князь Дмитрий Иванович.
- 3) В битве, юбилею которой посвящена марка, русское войско противостояло шведам.
- 4) Авторы изображения на марке подчеркивают важную роль православной церкви в событии, которому марка посвящена.
- 5) Современником битвы, которой посвящена марка, был воевода М.Б. Шеин.

Ответ:

--	--

25

Какие из представленных ниже марок и монет посвящены историческим деятелям, жившим в том же столетии, в котором произошла битва, в честь юбилея которой была выпущена изображённая выше марка? В ответе запишите две **цифры**, под которыми они указаны.


1)



3)



2)



4)



Ответ:

--	--

26 Ниже приведён список терминов, понятий, названий. Все они, за исключением двух, относятся к царствованию Ивана Грозного.

1) «Стоглав»; 2) бояре; 3) баскаки; 4) стрельцы; 5) опричнина; 6) вече.

Найдите и запишите порядковые номера терминов, понятий, названий, относящихся к другому историческому периоду.

Ответ:

--	--

27 Что из перечисленного относится к XIII в.? Выберите три ответа и запишите в таблицу цифры, под которыми они указаны.

- 1) княжеские междоусобицы
- 2) строительство храмов св. Софии в Киеве и Новгороде
- 3) борьба с натиском западных рыцарей в Прибалтике
- 4) «крестовый поход» русских князей в половецкую степь
- 5) признание зависимости русских земель от Орды
- 6) принятие «Русской правды»

Ответ:

--	--	--

28 Прочтите отрывок из записок.

«Во время проповеди [патриарх] велел принести иконы старья и новья, кои некоторые из московских иконописцев стали рисовать по образцам картин франкских и польских. Так как этот патриарх отличался чрезмерною крутостью нрава и приверженностью греческим обрядам, то он послал своих людей собрать и доставить к нему все подобныя иконы, в каком бы доме ни находили их, даже из домов государственных сановников, что и было исполнено... Никон выколол глаза у этих образов...

В этот день патриарху представился удобный случай для беседы в присутствии царя, и он много говорил о том, что такая живопись, какова на этих образах, недозволительна. Никон брал эти образа правою рукою один за другим, показывал народу и бросал их на железные плиты пола, так что они разбивались, и приказал их сжечь. Царь стоял близ нас с открытою головою, с видом кротким, в молчании внимая проповеди. Будучи человеком набожным и богобоязненным, он тихим голосом стал просить патриарха, говоря: "нет, отче, не сжигай их, но пусть их зароят в землю". Так и было сделано».

Используя отрывок и знания по истории, выберите в приведённом списке три верных суждения.

Запишите в таблицу **цифры**, под которыми они указаны.

- 1) События, описываемые в источнике, относятся к XVII в.
- 2) Царь, упоминаемый в источнике, – Михаил Фёдорович.
- 3) Современником событий, о которых идёт речь в отрывке, был протопоп Аввакум.
- 4) В царствование, события которого описываются в тексте, в России произошёл Медный бунт.
- 5) В отрывке подчёркивается кроткий нрав патриарха, действия которого в нём описываются.
- 6) В источнике подчёркивается, что действия патриарха коснулись только простонародья, но не затронули высших сановников.

Ответ:

--	--	--

Рассмотрите изображение и выполните задания 29, 30.



29

Какие суждения о данном изображении являются верными? Выберите два суждения из пяти предложенных. Запишите в таблицу **цифры**, под которыми они указаны.

- 1) Государь, которому посвящена марка, правил в XV в.
- 2) В период правления государя, изображённого на марке, к Русскому государству было присоединено Казанское ханство.
- 3) Авторы изображения на марке подчеркивают тот факт, что государь, которому посвящена марка, стал первым, кто венчался на царствие.
- 4) В период правления государя, изображённого на марке, в России произошёл церковный раскол.
- 5) Марка была выпущена в год принятия новой Конституции России.

Ответ:

--	--

30

Какие из представленных монет посвящены историческим деятелям – современникам государя, изображённого на марке? В ответе запишите две **цифры**, под которыми они указаны.

1)



3)



2)



4)



Ответ:

--	--

31

Ниже приведён ряд терминов. Все они, кроме двух, относятся к системе управления и общественному строю восточных славян VII–X вв.

1) вече; 2) вервь; 3) старейшина; 4) дворянин; 5) урочные лета; 6) князь.

Найдите и запишите порядковые номера терминов, которые относятся к другому историческому периоду.

Ответ:

--	--

32

Прочтите отрывок из источника.

«... В граде Пскове слышали бояре и воеводы, что уже идёт король Стефан на Псков, и всячески и неослабно по-прежнему осаду укрепляли. В волости же и сёла ...непрестанно посылая, всякие запасы в город возить велели, дворы же и с остальными кормовыми запасами жечь повелевая, чтобы не было врагу домов и пищи... Так же православный царь и государь и великий князь _____, то же слышав, что литовский король на его государеву вотчину на Псков град со многою горделивою силою великою устремился. Сие же слышав благоверный государь во Псков к боярам своим и воеводам и всем воинским людям и псковичам свои царские грамоты пишет не ослабно же и мужественно во осаде быть и до смерти невозвратно с Литвою биться велев...

Того же месяца в восьмой день, на первом часу дни, начали бить из наряду по граду из троих туров из двадцати пищалей, и били беспрестанно весь день до ночи, так же и на утро и выбили городовые стены да Покровскую башню всюду земли до Свиной башни, половину земли сбив... и городовую стену во многих местах проломив. И сие к королю своему возвестили. Он же весьма о сем радостен был...»

Используя отрывок и знания по истории, выберите в приведённом списке три верных суждения.

Запишите в таблицу цифры, под которыми они указаны.

- 1) В источнике описываются события Смоленской войны.
- 2) Русский царь, имя которого пропущено в тексте, – Иван IV.
- 3) Русский город, действия против которого неприятеля описываются в источнике, выдержал неприятельскую осаду, и неприятель был вынужден отступить от его стен.
- 4) Война, события которой описываются в источнике, завершилась победой русского государства.
- 5) В тексте говорится об эффективном использовании противником огнестрельного оружия.
- 6) В тексте говорится о бездействии русских воевод перед надвигающейся неприятельской угрозой.

Ответ:

--	--	--

Рассмотрите схему и выполните задания 33–36.



- 33** Напишите имя предводителя военного похода, обозначенного на схеме стрелками.

Ответ: _____.

- 34** Напишите название города, обозначенного на схеме цифрой «1».

Ответ: _____.

- 35** Напишите название союза племён, территория проживания которого на схеме заштрихована и обозначена цифрой «5».

Ответ: _____.

36

Какие суждения, относящиеся к событиям, обозначенным на схеме, являются верными? Выберите три суждения из шести предложенных. Запишите в таблицу цифры, под которыми они указаны.

- 1) Обозначенный на схеме цифрой «2» город стал столицей Древнерусского государства после военного похода, обозначенного на схеме стрелками.
- 2) Обозначенный на схеме цифрой «3» город – Искоростень.
- 3) Предводитель военного похода, обозначенного на схеме стрелками, стал основателем династии русских князей, правивших в русских землях до XVI в.
- 4) Через реку, обозначенную на схеме цифрой «4», проходил торговый путь «из варяг в греки».
- 5) Гибель князя, место которой обозначено на схеме, произошла в том же столетии, что и поход, обозначенный на схеме стрелками.
- 6) Поход, обозначенный на схеме стрелками, проходил через город Ростов.

Ответ:

--	--	--

37

Ниже приведён ряд терминов. Все они, за исключением двух, относятся к Древнерусскому государству X–XII вв.

- 1) закуп; 2) мещанин; 3) Боярская дума; 4) лествичная система; 5) погост;
6) дружина.

Найдите и запишите порядковые номера терминов, относящихся к другому историческому периоду.

Ответ:

--	--

38 Прочтите отрывок из договора.

«По благословению и по совету святейшего _____ патриарха Московского и всея Руси...

Великий государь Сигизмунд король пожалует, даст на Владимирское и на Московское и на все великие государства Российского царства сына своего королевича Владислава.

И государю королевичу Владиславу ...венчаться на Владимирское и на Московское государство... царским венцем... как прежние великие государи цари Московские венчались.

А будучи государю королевичу Владиславу на Российском государстве, церкви Божия на Москве и по всем городам и по сёлам в Московском государстве и во всём Российском царствии чтить и украшать во всём по прежнему обычаю...

И святым иконам, и всем святым, и чудотворным мощам поклоняться и почитать.

И римской веры костёлов в Московском государстве и по городам, и по сёлам нигде не ставить...

И Российского государства людей православных христиан от греческой веры в римскую и ни в которую иную силу и нуждою и иными никакими мерами не отводить...

А польским и литовским людям на Москве ни у каких у земских расправных дел, и по городам в воеводах и в приказных людях не быть и в наместничество городов польским и литовским людям не давать».

Используя отрывок и знания по истории, выберите в приведённом списке три верных суждения.

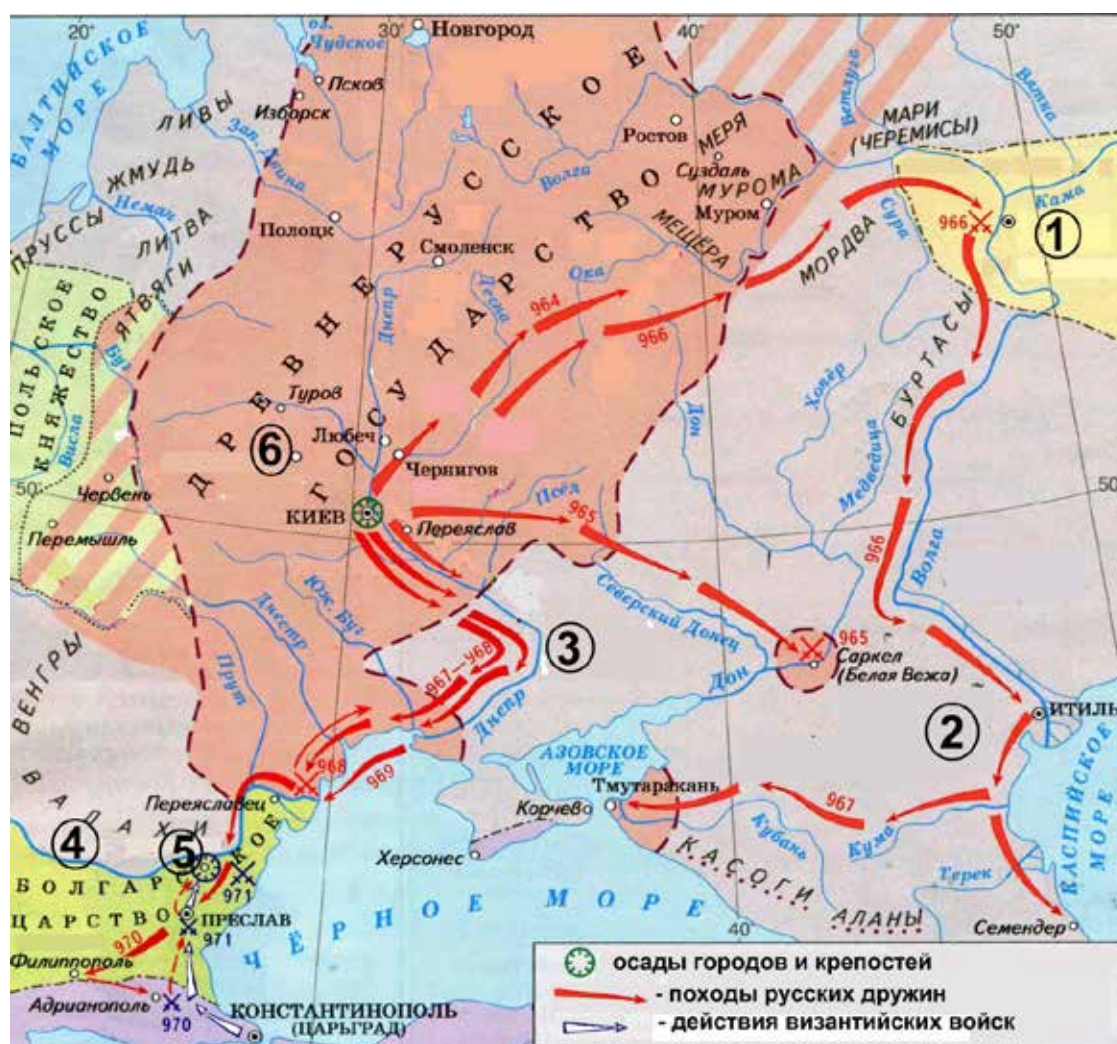
Запишите в таблицу **цифры**, под которыми они указаны.

- 1) Составление данного договора произошло в начале XVII в.
- 2) В составлении данного договора принимали участие члены Семибоярщины.
- 3) В договоре предусматривалось разрешение новому российскому государю строить в России католические храмы.
- 4) Составлению договора предшествовало заключение Поляновского мира.
- 5) Пропущенное в тексте имя патриарха – Никон.
- 6) Договор запрещал польским и литовским людям занятие государственных должностей в русском государстве.

Ответ:

--	--	--

Рассмотрите схему и выполните задания 39–42.



- 39** Назовите князя, который возглавлял походы русских дружин, обозначенные на схеме.

Ответ: _____.

- 40** Напишите название государства, обозначенного на схеме цифрой «1».

Ответ: _____.

- 41** Напишите название реки, обозначенной на схеме цифрой «4».

Ответ: _____.

42

Какие суждения, относящиеся к событиям, обозначенным на схеме, являются верными? Выберите три суждения из шести предложенных. Запишите в таблицу цифры, под которыми они указаны.

- 1) В ходе обозначенных на схеме походов русских дружин ими был захвачен город Херсонес.
- 2) Князь, возглавлявший обозначенные на схеме походы русских дружин, принял христианство.
- 3) Отец древнерусского князя, походы которого обозначены на схеме, погиб близ города, обозначенного на схеме цифрой «6».
- 4) В конце столетия, к которому относятся обозначенные на схеме походы русских дружин, на территории, обозначенной на схеме цифрой «3», поселились половцы.
- 5) Древнерусский князь, походы которого обозначены на схеме, погиб в результате нападения племён, территория расселения которых обозначена на схеме цифрой «3».
- 6) Обозначенная на схеме цифрой «5» крепость – Доростол.

Ответ:

--	--	--